

تُظهر علامة الطريق هذه



1. قسم الطريق حيث يوجد رصيف أو ممر للمشاة.
2. قسم من الطريق يوجد فيه معبر مشاة.
3. قسم الطريق حيث لا يوجد رصيف أو ممر للمشاة.

2 : پاسخ :


هل يُسمح بدخول المنطقة المشارية بهذه العلامة عند الاستدارة إلى اليمين؟



1. يسمح.
2. لا يسمح.
3. يُسمح به، إذا لم يتم فصل تلك المنطقة عن باقي طريق السير بخط محدد كبير.

3 : پاسخ :

على أي مسافة من موقع الجزء الخطير من الطريق توضع هذه اللافتات في الأماكن السكنية؟



1. 20 متر إلى 15 من .
2. 50 متر إلى 25 من .
3. 100 متر إلى 50 من .
4. 150 متر إلى 100 من .
5. 200 متر إلى 150 من .

3 : پاسخ :


أي شاحنة من الشاحنات التالية تمنع حركة المرور بمساحة أصغر من تلك التي تظهر على اللافتة؟



- 11.
- 22.
- 33.
- 44.
- 55.

3 : پاسخ :

أي من العلامات التالية يلزم إعطاء الطريق للمركبات التي تدخل أو تقترب من جزء ضيق من الطريق في الاتجاه المعاكس؟



- 11.
- 22.
- 33.
- 44.
- 55.

3 : پاسخ :


علامة الطريق هذه



- تُحظر حركة جميع المركبات الميكانيكية، باستثناء الدراجات النارية ذات العجلتين التي لا تحتوي .
1. على ملحق جانبي
  2. تمنع مرور جميع المركبات باستثناء الجرارات ذات العجلات.
  3. تمنع مرور الجرارات والمركبات ذاتية الحركة.

3 : پاسخ :

أي من الشاخصات تحذر من الاقتراب من تقاطع طرق متساوية؟



.11  
.22  
.33  
.44  
.55

بإسـخ : 5


أي من العلامات التالية موضوعة قبل عبور الطريق السالكة مباشرة؟



.11  
.22  
.33  
.44  
.55

بإسـخ : 2

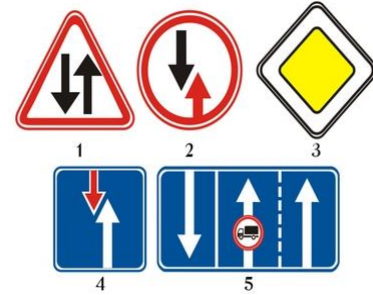
تسمح هذه العلامات بحركة المرور



1. فقط إلى اليسار.  
2. فقط إلى الأمام.  
3. فقط إلى اليمين.  
4. إلى الأمام، إلى اليمين وإلى الاتجاه المعاكس.

بإسـخ : 4

أي شاخصة تمنح السائق أفضلية على المركبات القادمة؟



.11  
.22  
.33  
.44  
.55

بإسـخ : 4

ماذا تعني العلامة الموجودة أسفل اللافتة؟



1. المسافة من اللافتة إلى بداية أول منعطف.  
2. المسافة من أول منعطف إلى بداية المنعطف الثاني.  
3. طول مقطع الطريق مع المنعطفات الخطرة.

بإسـخ : 3

ماذا تعني العلامات التالية؟



1. يحظر مرور الدراجات النارية إلى اليمين.  
2. مسموح بحركة الدراجات النارية إلى اليمين.

بإسـخ : 1

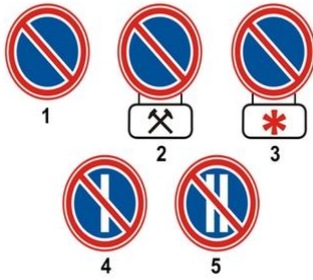
علامة الطريق هذه



1. يسمح بالقيادة فقط بالسرعة المحددة أو أعلى.
2. يحظر القيادة بسرعة أعلى مما هو مذكور في اللائحة.
3. يشير إلى السرعة التي يُقترح القيادة بها على جزء معين من الطريق.

يُاسخ : 1

أي شاخص من العلامات الآتية تمنع ركن المركبة في أيام الشهر المزدوجة ؟



- .11
- .22
- .33
- .44
- .55

يُاسخ : 5

هذه العلامة تسمى



1. مؤشر أولي لتجاوز الحظر.
2. مؤشر أولي لإعادة ترتيب أقسام أخرى لطريق مروري.
3. مؤشر أولي للخروج إلى المسلك القادم.

يُاسخ : 2

أي من العلامات التالية تُلزمك بإفصاح الطريق للمركبات القادمة؟



- .11
- .22
- .33
- .44
- .55

يُاسخ : 2


هل يسمح لسائق الباص بالمرور في المنطقة الخاضعة بهذه الشاخص؟



1. يجوز في جميع الأحوال مع مراعاة قواعد المرور.
2. غير مسموح.
3. ساعة/كم 30 يسمح إذا كانت سرعة المركبة المارة لا تزيد عن .

يُاسخ : 1

أي من العلامات التالية يلزمك بإعطاء الأولوية للمركبات التي تعبر الطريق؟



- .11
- .22
- .33
- .44
- .55

يُاسخ : 3

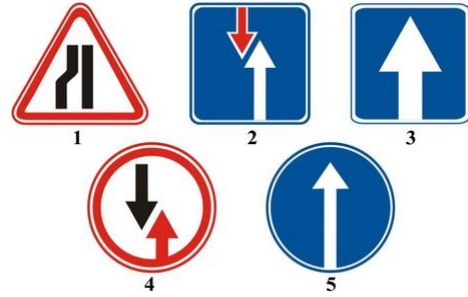
أو بالسرعة الأعلى؟ (ساعة/كم) أي من العلامات التالية تسمح لك بالقيادة فقط بالسرعة المحددة



.11  
.22  
.33  
.44  
.55

3 : پاسخ :

أي مما يلي يدل إشارة إلى شارع باتجاه واحد؟



.11  
.22  
.33  
.44  
.55

3 : پاسخ :

ماذا تشير العلامة الموجودة أسفل هذه الشاحنة



1. طول المقطع الضيق من الطريق.  
2. المسافة من اللافتة إلى مكان انتهاء المقطع .  
3. المسافة إلى الالتفافية للجزء الضيق من الطريق.

2 : پاسخ :

تحذّر شاحنة الطريق أمامك من الآتي



1. إنه جزء طريق به حاجز مائي بدون جسر أو معبر.  
2. إنه مقطع طريق به حاجز مائي ، يوجد عليه جسر مفتوح.  
3. إنها منطقة يذهب فيها الطريق إلى الشاطئ أو قبل الشاطئ.

3 : پاسخ :

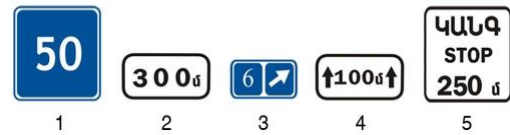
أي من العلامات الآتية تدل على منطقة تأثير اللوحات المرورية التي تمنع إيقاف وإركان المركبات؟



.11  
.22  
.33  
.44  
.55

4 : پاسخ :

أي من العلامات التالية تدل على تأثير الإشارات التحذيرية على طول جزء خطير من الطريق؟



.11  
.22  
.33  
.44  
.55

4 : پاسخ :

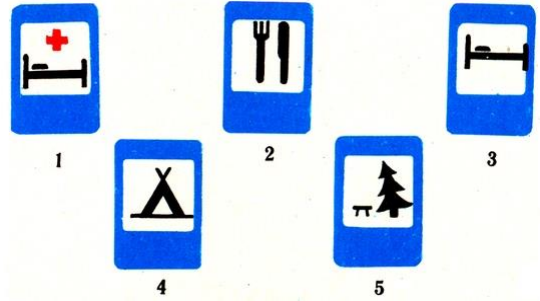
تظهر علامة الطريق هذه:



1. طريق ذو اتجاه واحد ، يسمح بمرور الشاحنات فقط.
2. ممر للشاحنات فقط.
3. اتجاه المرور المقترح به لسيارات الشحن.

بإسـخ : 3

؟"موتيل" أم "فندق" أي شاخصة تسمى



- .11
- .22
- .33
- .44
- .55

بإسـخ : 3

مع العلامة التالية يتم تجهيز السيارات التي



1. ينقلون البضائع الخطرة.
2. تدار من قبل المعاقين.
3. يقودها سائق أصم أو أبكم.
4. سنوات 3 يديرها سائقون يتمتعون بخبرة قيادة تصل إلى .

بإسـخ : 3

ساعة؟ /كم 50 أي مما يلي يشير إلى نهاية الحد الأقصى للسرعة البالغة



- .11
- .22
- .33
- .44
- .55

بإسـخ : 2

ما الذي تحذر منه هذه العلامة واللافتة؟



1. يمنع التوقف على جانب الطريق بسبب أعمال الترميم.
2. من الخطر الدخول إلى جانب الطريق بسبب أعمال الإصلاح.
3. يمنع الوقوف على جانب الطريق بسبب أعمال الترميم.

بإسـخ : 2

بزوّد المركبات التالية بعلامة التعرّف هذه



1. التي تدار من قبل المعاقين.
2. التي تنقل حمولات ثقيلة وكبيرة.
3. التي تنقل بضائع خطيرة.
4. التي يقودها سائق أصم أو أصم وأبكم.

بإسـخ : 3

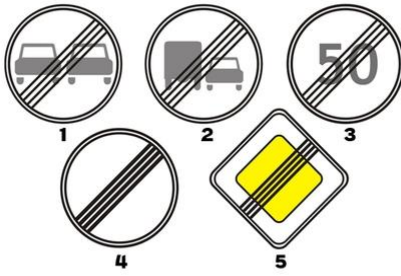
في أي حالة استوفى السائق متطلبات هذه الشاحصة بشكل صحيح؟



1. أفسح المجال لمركبات وسائل النقل الميكانيكية التي عبرت الطريق.  
2. أفسح المجال لمركبات وسائل النقل العامة التي عبرت الطريق.

2 : پاسخ:


أي من الشاحصات تزيل كل القيود السابقة؟



.11  
.22  
.33  
.44  
.55

4 : پاسخ:


أي شاحصة تلتزم إعطاء الأولوية لمركبات النقل العام التي تعبر الطريق؟



.11  
.22  
.33  
.44  
.55

4 : پاسخ:

أي مما يلي يستخدم كعلامة للتعرف على قطار؟



1. علامة اليمين.  
2. علامة اليسار.  
3. كلتا العلامتين.

2 : پاسخ:

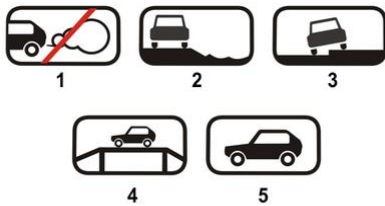
هل يجوز التوقف في المنطقة الموسومة بهذه العلامة لإصعاد الركاب؟



يُسمح إذا كان هذا الممر يقع بالقرب من الحافة اليمنى للطريق ولم يتم فصله عن بقية الطريق .  
2. لا يسمح.  
3. يسمح.  
1. يخط توضيحي ثابت

1 : پاسخ:

التالية تدل على كيفية إيقاف المركبة في مكان ركنها؟ (اللافتات) أي من العلامات



.11  
.22  
.33  
.44  
.55

3 : پاسخ:



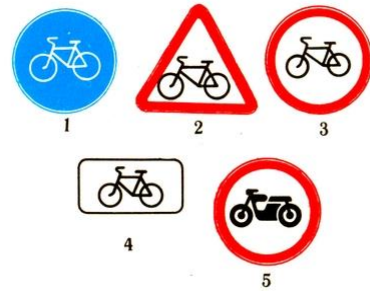
إذا كانت لديك علامة الطريق هذه:



1. يحظر عبور جميع أنواع المركبات باستثناء المركبات بطبقة الحركة والمقطورات والدراجات مع إطارين بدون ملحق جانبي والدراجات البخارية والدراجات الهوائية
2. طن 3.5 يسمح بتجاوز سيارات الشحن ذات الحمولة القصوى التي لا تزيد عن .
3. ساعة/كم 30 يُسمح بالتجاوز إذا كانت سرعة المركبة المارة لا تتجاوز .

بإسـخ : 1

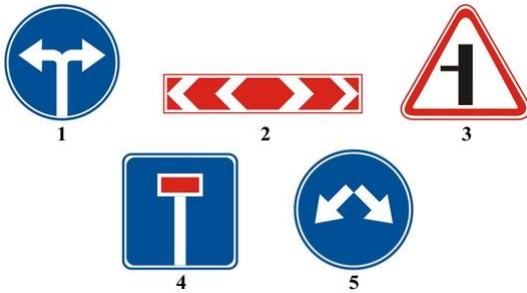
"العبور بمسار الدراجات الهوائية" أي من العلامات التالية يبين



- .11
- .22
- .33
- .44
- .55

بإسـخ : 2

أي شاخصة تبين اتجاهات السير عند التقاطع على شكل حرف T؟



- .11
- .22
- .33
- .44
- .55

بإسـخ : 2

تظهر علامة الطريق هذه



1. طريق بدون ممر.
2. اتجاه حركة المرور إلى المادة الموجودة في المكان السكني.
3. نهاية طريق الحزام المتجول أو الحزام الإضافي في الصعود.

بإسـخ : 1

ما هي الشاخصة التي لا تعمل على مركبات النقل العامة؟



- .11
- .22
- .33
- .44
- .55

بإسـخ : 4

ما هي مركبات النقل المسموح لها بالمرور على الطرق تحت هذه الشاخصة؟



1. للمركبات الميكانيكية.
2. جميع مركبات النقل.
3. السيارات والدراجات النارية.
4. ساعة /كم 40 للمركبات التي تزيد سرعتها القصوى عن .

بإسـخ : 3

ماذا تعني علامة التعرف هذه؟



1. في الأمام مقطع من الطريق غير متساوي.
2. يوجد أمامك مقطع من الطريق به ثلاث ممرات للقيادة في هذا الاتجاه.
3. تم تثبيت الإطارات المرقطة على السيارة الميكانيكية.

3 : پاسخ:


أي من شاخصات الطريق التالية لا تعتبر مانعة؟



- .11
- .22
- .33
- .44
- .55

2 : پاسخ:

أي من العلامات التالية يلزمك بإعطاء الأولوية للمركبات التي تعبر الطريق؟



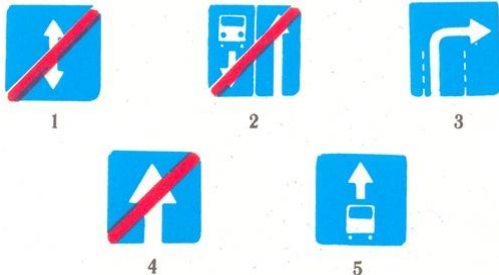
- .11
- .22
- .33
- .44
- .55

4 : پاسخ:

- .11
- .22
- .33
- .44
- .55

2 : پاسخ:

أي من العلامات التالية يُسمى؟



- .11
- .22
- .33
- .44
- .55

4 : پاسخ:

تشير العلامات التالية إلى:



1. ذات الاحتياجات "متر للسيارات المزودة بعلامة تعريف 30مساحة إركان السيارات بعد . الخاصة"
2. متر باستثناء 30مساحة إركان المركبات في منطقة طولها . للدراجات النارية
3. "ذات الاحتياجات الخاصة" للدراجات النارية والسيارات المزودة بعلامة تعريف

3 : پاسخ:

أي شاخصية تعتبر علامة تمييز مركبة نقل؟



- .11
- .22
- .33
- .44
- .55

3 : پاسخ:



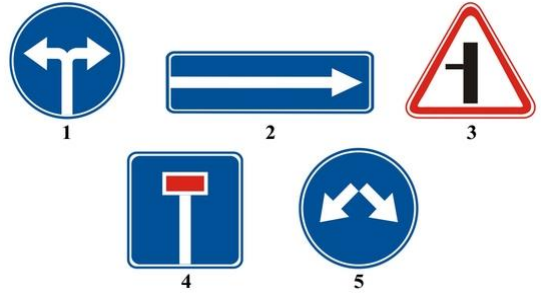
ما هي المركبات الممنوعة بواسطة هذه الإشارة؟



1. للمركبات الميكانيكية.
2. للسيارات فقط.
3. للسيارات الخفيفة فقط.

بإسـخ : 1

أي مما يلي يشير إلى الانعطاف يمينا أو يساراً؟



- .11
- .22
- .33
- .44
- .55

بإسـخ : 5

أي من العلامات التالية توضع على مقدمة ومؤخرة المركبات عند نقل عند نقل مجموعات منتظمة من الأطفال



- .11
- .22
- .33
- .44
- .55

بإسـخ : 1

إلى ماذا تشير إشارات الطريق هذه؟



1. الطريق الرئيسي يستمر إلى اليسار من مفترق الطرق.
2. يستمر الطريق الرئيسي في خط مستقيم وإلى يسار التقاطع.

بإسـخ : 1


إلى ماذا تشير إشارات الطريق هذه؟



1. في منطقة تأثير اللافتة يجب على السائق القيادة أسرع مما هو موضح على اللافتة.
2. في منطقة تأثير اللافتة ، يُنصح السائقون بالقيادة بالسرعة الموضحة على اللافتة.

بإسـخ : 2


ما هي اللافتات التي تعمل فقط خلال الفترة التي يكون فيها سطح الطريق مبللاً؟



1. A و C فقط .
2. B فقط .
3. C فقط .
4. كل الحالات السابقة المذكورة.

بإسـخ : 3

ماذا يجب أن يفعل السائق في هذه الحالة؟



1. استمر الى الامام.
2. رتّب القيادة بموجب الممر التالي للطريق.

بإسـخ : 2

إلى ماذا تشير إشارات الطريق هذه؟



1. 100 متر يوجد تضيق للطريق على الجانب الأيمن يبلغ طوله 150-300 متر بعد العلامة .
2. 100 متر يوجد تضيق في الجانب الأيمن من الطريق بعد العلامة .

بإسـخ : 1

في أي اتجاه يُسمح للسائق بالقيادة؟



1. فقط لليمين ولليسار .
2. فقط للأمام .
3. في الاتجاه الصحيح والمعاكس .

بإسـخ : 3

إلى ماذا تشير إشارات الطريق هذه؟



1. الإركان ممنوع أيام السبت .
2. الإركان ممنوع أيام الأحد .
3. الإركان ممنوع في عطلات نهاية الأسبوع والأعياد .
4. يمنع الإركان أثناء تساقط الثلوج .

بإسـخ : 3

ما هي شاخصة الطريق التي تمنع العودة؟



1

2

3

- 11.
- 22.
- 33.

بإسـخ : 3

إلى ماذا تشير إشارات الطريق هذه؟



1. من الخطر الدخول من الجانب بسبب أعمال الإصلاح .
2. يتم تنفيذ أعمال الترميم على الطريق .

بإسـخ : 1


ماذا يفعل السائق إذا تم وضع الشاحسة أمام التقاطع؟



1. عبور التقاطع مع الحفاظ على السلامة.
2. إفساح الطريق للمركبات التي تعبر التقاطع.
3. الوقوف أمام اللافتة وإفساح المجال للمركبات التي تعبر التقاطع.

بإسـخ : 3

ما هي اللوحات الإرشادية التالية التي لا تعمل على المركبات العامة؟



1 2 3 4

1. ليس أية من الإشارات.
2. فقط الأولى.
3. فقط الرابعة.

بإسـخ : 3

تبين الشاحسة التالية:



1. يجب القيادة يساراً أو يميناً عند مفترق الطرق.
2. يتم تنظيم حركة مرور باتجاهين على التقاطع.
3. يتم تنظيم حركة مرور باتجاه واحد على التقاطع.

بإسـخ : 2

في هذه الحالة هل السائق ملزم بإعطاء الأولوية للشاحنة؟



1. ملزم.
2. غير ملزم.

بإسـخ : 1

إلى ماذا تشير إشارات الطريق التالية؟



1. ساعة/كم 40 عندما يكون الطريق جليدياً، عليك القيادة بسرعة .
2. ساعة/كم 40 في حالة الطرق المبتلة ، يجب القيادة بسرعة لا تتجاوز .

بإسـخ : 2

إلى ماذا تشير إشارات الطريق التالية؟



1. إركان المركبة ممنوع أيام السبت.
2. إركان المركبة ممنوع أيام الأحد.
3. يمنع الإركان في أيام العمل.

بإسـخ : 3



إلى ماذا تشير إشارات الطريق التالية؟



1. ساعة في هذا الجزء من الطريق /كم 50يسمح بالقيادة بسرعة لا تزيد عن .
2. ساعة في هذا الجزء من الطريق /كم 50يوصى بالقيادة بسرعة .
3. يُسمح بالسير فقط بالسرعة الموضحة في اللافتة أو أعلى.

بإسـخ : 2

أي شاخصة تُلزم السائق بالقيادة فقط لليمين؟



1



2



3

- .11
- .22
- .33

بإسـخ : 3

إلى ماذا تشير إشارات الطريق التالية؟



1. ساعة/كم 40في حالة الطرق المبتلة يوصى بالقيادة بسرعة .
2. ساعة /كم 40في حالة الطرق المبتلة يُسمح بالقيادة بسرعة لا تزيد عن .

بإسـخ : 1

يمتد تأثير علامات الطريق هذه



1. على الجانب الأيسر من الطريق.
2. على الجانب الأيمن من الطريق.
3. على الجانب من الطريق حيث هي مثبتة.

بإسـخ : 3

في هذه الحالة ما هو المسار المسموح به لتجاوز الحظر؟



1. "أ" فقط .
2. "ب" فقط .
3. "أ" و "ب" ..

بإسـخ : 3

ماذا يجب أن يفعل السائق في هذه الحالة؟



1. من الضروري التوقف عند أول علامة.
2. من الضروري التوقف قبل العلامة الثانية.
3. أمتار من خط السكة الحديد الأولى 5من الضروري التوقف على مسافة لا تقل عن .

بإسـخ : 2

كيف يجب أن يتصرف السائق إذا كان ينوي الاستدارة إلى اليمين عند التقاطع؟



1. يمكن إعادة وضعيته إلى الممر الأيمن، من ثم الانعطاف إلى اليمين.
2. يمكنه الاقتراب من مفترق الطرق، من ثم يستدير يمينا.
3. كلا الإجابتين صحيحتان.

بإسـخ : 3

متر من الشاحصة؟ 200 في هذه الحالة هل يحق للسائق العودة لمسافة



1. له الحق.
2. ليس لديه الحق.

بإسـخ : 1

في هذه الحالة هل السائق ملزم بالتوقف في المكان الذي يحده المنظم؟



1. غير ملزم، لأن اللافتة تمنع التوقف.
2. ملزم.

بإسـخ : 2

كيف يجب أن يتصرف السائق في هذه الحالة؟



1. يعبر معبر السكة الحديد، لضمان السلامة.
2. يعبر معبر السكة الحديد بدون توقف.
3. يتوقف أمام اللافتة ويحافظ على السلامة ويعبر معبر سكة الحديد متعدد المسارات.

بإسـخ : 3

ماذا يُظهر الخط المرسوم على طريق السير؟



1. حدود مسالك منفصلة للمركبات التي تسير في نفس الاتجاه.
2. حدود مسلك المرور المتغير مع الالتفاف.

بإسـخ : 2

في أي اتجاه يُسمح بمرور السيارات الخفيفة؟



1. إلى اليسار والاتجاه المعاكس.
2. في أي اتجاه.
3. إلى الأمام، إلى اليسار والاتجاه المعاكس.

بإسـخ : 3



كيف يجب أن يتصرف السائق في هذه الحالة؟



1. إذا لزم الأمر يقوم بإفساح الطريق لمركبة تسير في التقاطع.
2. يتوقف ويفسح المجال لمركبة تسير في التقاطع.

بإسـخ : 2

أي من اللوحات الإرشادية التالية تمنع دخول منطقة التقاطع إذا كان هناك ازدحام في الجهة الأمامية باستثناء المنعطفات اليمنى أو اليسرى؟



.11

.22

.33

.44

بإسـخ : 3

عند التقاطعات المعدّدة، إذا "منطقة التقاطع" ما هي المسافة القصوى التي يتم وضع علامة طريق لم يكن من الممكن وضعها عند حدود التقاطع؟




10متر

20متر

30متر

بإسـخ : 3

ما الذي تحذر منه إشارة الطريق التالية؟



1. ممنوع التوقف.

يمنع دخول منطقة التقاطع، إذا كان هناك ازدحام في اتجاه حركة المرور، مما يجبر السائق على .

يمنع دخول منطقة التقاطع إذا كان هناك ازدحام في اتجاه .

3. حركة المرور

بإسـخ : 2

ماذا تدل علامة الرسمة التالية على الطريق؟



1. مكان إركان مركبات النقل.

2. مكان عبور المشاة.

3. جزيرة أمن.

4. يمنع دخول التقاطع، إذا كان هناك ازدحام أمام حركة المرور، مما يجبر السائق على التوقف.

بإسـخ : 4

أي من العلامات التالية تشير للجزء الممنوع دخوله من التقاطع، إذا كان هناك ازدحام في اتجاه حركة المرور، مما يجبر السائق على التوقف؟



1

2

3

.11

.22

.33

بإسـخ : 3



الرجوع إلى الخلف من المنطقة المحددة



1. مسموح.
2. غير مسموح.

بإسـخ : 2

؟"خط التوقف" هل يجب التوقف أمام علامة



1. نعم.
2. لا.

بإسـخ : 2

في هذه الحالة



1. يجب إفساح الطريق لسائق الشاحنة.
2. يمكن عبور المقطع الضيق أولاً.

بإسـخ : 2

بعد هذه العلامات يتم تحديد السرعة القصوى لسائق الشاحنة التي لا يُسمح بتجاوز وزنها طن 3.5 الأقصى



1. كم في الساعة 60.
2. كم في الساعة 70.
3. كم في الساعة 80.

بإسـخ : 3

إركان المركبة في المنطقة المذكورة



1. مسموح.
2. مسموح فقط في ضوء النهار.
3. غير مسموح.

بإسـخ : 1

هل خالف سائق الشاحنة قواعد الإركان؟



1. نعم.
2. طن 3.5 نعم إذا تجاوزت الحمولة القصوى المسموح بها .
3. لا.

بإسـخ : 1

في أي اتجاه يسمح بالسير؟



1. فقط إلى الأمام.
2. إلى الأمام والاتجاه المعاكس.
3. في كل الاتجاهات.

2 : پاسخ :

ماذا تشير إليه لافتة المعلومات الإضافية؟



1. قبل التقاطع مباشرة "إفصاح الطريق" المسافة من اللافتة إلى التقاطع، حيث وضعت علامة .
2. قبل التقاطع "ممنوع مرور بدون توقف" المسافة من اللافتة إلى التقاطع، حيث وضعت لافتة مباشرة .
3. موقع الحاجز الحدودي.

2 : پاسخ :

التوقف في المكان المحدد:



1. مسموح.
2. غير مسموح.

1 : پاسخ :

ما هو السرعة الذي تحدده هذه اللافتات على الطريق؟



1. ساعة/كم 50 السرعة الدنيا .
2. ساعة/كم 50 السرعة المقترحة .
3. ساعة /كم 50 -بسرعة دنيا في المسرب الأيسر بالتوازي.

3 : پاسخ :

هل يُسمح للسائق أن ينعطف إلى اليسار؟



1. نعم.
2. لا.

1 : پاسخ :

تشير العلامات إلى أن



1. متر من الطريق المسالك 150 هناك خطر لعبور المشاة لمسافة .
2. متر 150 سيكون هناك معبر مشاة غير منظم بعج مسافة .

2 : پاسخ :

في أي اتجاه يمكنك الاستمرار في القيادة عند هذا التقاطع إذا كنت تقود شاحنة بوزن أقصى طن؟ 3,5 - مسموح به



1. فقط للييسار.
2. للييمين، للييسار أو في الاتجاه المعاكس.
3. في كل الاتجاهات.

بإسـخ : 3

هل الانعطاف يميناً إلى طريق ترابي مسموح به؟



1. نعم.
2. لا.

بإسـخ : 1

هل يجوز التوقف في المكان المعين لأخذ الركاب؟



1. نعم.
2. لا.

بإسـخ : 1

علامة الطريق هذه



1. يحذّر من الاقتراب من ممر ضيق.
2. يحظر العبور عبر الجسر.
3. يُجبر على إفساح الطريق للسائق القادم في القسم الضيق.

بإسـخ : 3

ماذا ستفعل إذا احتجت إلى تغيير اتجاه الحركة للاتجاه المعاكس؟



1. الرجوع إلى الخلف عند هذا التقاطع.
2. الرجوع إلى الخلف بعد تجاوز التقاطع.
3. كلتا الحالتين السابقتين مسموحة.

بإسـخ : 2

الإرکان في الموقع المحدد



1. مسموح.
2. غير مسموح.

بإسـخ : 2



في حالة هذه الشاحنة، ينتشر تأثير العلامة المستخدمة معها



1. فقط على سيارات الركاب الخفيفة.
2. طن 3.5 على سيارات الركوب الخفيفة وكذلك الشاحنات التي لا يزيد وزنها المسموح به عن .
3. على سيارات الركاب الخفيفة والدراجات النارية .

بإسـخ : 2

علامة الطريق هذه



1. يحظر الوقوف على الجانب.
2. الاتجاه إلى الجانب خطير بسبب أعمال الإصلاح.
3. يُسمح بالوقوف فقط في قسم الطريق السالك.

بإسـخ : 2

في أي الاتجاهات يُسمح بالمرور من المنطقة المذكورة؟



1. فقط لليسار .
2. للأمام واليسار .
3. للأمام، لليسار وفي الاتجاه المعاكس.

بإسـخ : 3

علامة الطريق هذه



1. ساعة /كم 40 يقترح السير بسرعة .
2. ساعة أو بسرعة أعلى/كم 40 يسمح بالسير بسرعة .
3. ساعة أو أكثر/كم 40 يمنع السير بسرعة .

بإسـخ : 3

أي ساحة يسمح للسائق بالدخول؟



1. اليسار.
2. اليمين.
3. لا يجوز دخول أي ساحة.
4. يسمح دخول كلتا الساحتين.

بإسـخ : 2

ما الذي تحذر منه إشارة الطريق هذه؟



1. الاقتراب من طريق زلق.
2. للاقتراب من طريق مبلل ومتوسخ.
3. قسم الطريق حيث يمكن انبعاث الحصى من العجلات.

بإسـخ : 3

في أي اتجاه يُسمح لسائق سيارة الركبات الخفيفة بالقيادة في هذه الحالة؟



1. فقط إلى الأمام.
2. إلى الأمام وإلى اليمين.
3. في كل الاتجاهات.

بإسـخ : 3

تفريغ السيارة في المنطقة المتأثرة من شاحنة الطريق هذه



1. دقائق 5 مسموح به إذا استمر لمدة تصل إلى .
2. مسموح بغض النظر عن الوقت الذي يستغرقه.
3. غير مسموح.

بإسـخ : 2

هل يجوز دخول الساحة المذكورة؟



1. نعم.
2. لا.

بإسـخ : 1

في هذه الحالة التوقف لأخذ الركاب



1. يسمح بعد العلامة.
2. يسمح لحين الوصول للعلامة.
3. يُحظر في كلتا الحالتين.

بإسـخ : 3

في هذه الحالة على الأقل بعد كم متر يمكن أن نلتقي تقاطع متساوي؟



1. 100 متر
2. 150 متر
3. 50 متر

بإسـخ : 3

من أين تبدأ قواعد المرور الخاصة بالأماكن السكنية؟

1. مع اللافتات باللون الأبيض ببداية المسكن.
2. فقط بعد اللافتات البيضاء أو الزرقاء، التي تحمل اسم المنطقة السكنية.
3. فقط بعد بدء منطقة البناء.

بإسـخ : 1

علامة الطريق هذه



1. يحذر من العبور مع خطوط الترام.
2. يحذر من الاقتراب من موقف الترام.
3. يُجبر على إفساح الطريق لسائق الترام.

بإسـخ : 1

تُلتزم هذه العلامات بالحفاظ على مسافة بينك وبين الذي أمامك



1. متر 900 إلى 70 مسافة صغيرة ل .
2. متر 900 متر إلى 70 مسافة أكثر من .
3. متر 900 مسافة متراً بعد 70 .

بإسـخ : 2

في أي اتجاه يمكنك متابعة القيادة من المنطقة المذكورة؟



1. فقط إلى الأمام.
2. إلى اليسار وإلى الأمام.
3. إلى اليسار، إلى اليمين وإلى الخلف.

بإسـخ : 2

هذه العلامات تُحدّر



1. حول الاقتراب من معبر السكة الحديد ذي الثلاثة حارات.
2. متر سيكون هناك معبر للسكك الحديدية بدون حاجز 150-300 بعد مسافة .
3. متر يوجد معبر للسكك الحديدية 100-50 بعد .

بإسـخ : 2

هل يُسمح بالإركان في هذه المنطقة؟



1. نعم.
2. مسموح فقط لسكان المنطقة المحددة.
3. لا.

بإسـخ : 1

في أي اتجاه يمكنك الاستمرار في القيادة عند التقاطع المذكور إذا كنت تقود شاحنة لا يزيد وزنها أطنان؟ 3 المسموح به عن



1. فقط للأمام.
2. فقط إلى الأمام وإلى اليمين.
3. في كل الاتجاهات.

بإسـخ : 3



هل يجوز التجاوز في هذه الحالة؟



1. نعم.
2. ساعة/كم 30 نعم، إذا كانت سرعة الدراجة النارية أقل من .
3. لا.

بإسـخ : 1

هل خالف سائق الشاحنة قواعد الإركان؟



1. لا.
2. طن 3.5 نعم ، إذا كانت الحمولة القصوى المسموح بها أكبر من .
3. نعم.

بإسـخ : 3

هل يمكن الإركان في المكان المذكور في الأيام المفردة من الشهر؟



1. نعم.
2. 19:002 نعم بعد الساعة .
3. لا.

بإسـخ : 2

هل يُسمح بالاقتراب من مكان العمل في المنطقة المتأثرة بهذه العلامات؟



1. مسموح فقط في أيام العمل.
2. مسموح فقط في غير أيام العمل.
3. مسموح في كل الأيام.
4. غير مسموح.

بإسـخ : 3

هل يُسمح بقيادة سيارة ركاب خفيفة مع مقطورة موصولة في اتجاه مستقيم عند هذا التقاطع؟



1. نعم.
2. يُسمح فقط لسكان تلك المنطقة.
3. لا.

بإسـخ : 1

هذه العلامة:



1. تُظهر اتجاهات الحركة عند التقاطع.
2. تمنع حركة المرور في التقاطع.

بإسـخ : 1

من أي مسافة سيبدأ مقطع الطريق الزلق في المكان السكني؟



1. متر على الأقل 100 من .
2. متر على الأقل 50 من .
3. مباشرة بعد العلامة.

بإسـخ : 2

أي من المركبات لا تتأثر بعلامة عدم السماح بالإركان في هذه الحالة؟



1. على سيارات الأجرة الخفيفة للركاب .
2. "ذوي الاحتياجات الخاصة" فقط على الدراجات النارية والسيارات المزودة بعلامة تعريف .
3. على كل المركبات السابقة المذكورة.

بإسـخ : 2

من هو السائق الذي انتهك قواعد الإركان؟



1. ليس أي سائق.
2. سائق الشاحنة.
3. سائقي الدراجة النارية وسيارة الركاب الخفيفة.

بإسـخ : 1

الرجوع إلى الخلف على طول المسار المشار إليه:



1. مسموح.
2. غير مسموح.

بإسـخ : 2

الإركان بعد الجسر:



1. مسموح.
2. غير مسموح.

بإسـخ : 2

تُعلم إشارات المرور هذه



1. حول بناء معبر للسكك الحديدية.
2. حول الاقتراب من معبر السكة الحديد بحاجز .
3. حول معبر سكة حديد بدون حاجز .

بإسـخ : 2

عند القيادة عبر المنطقة المذكورة، يُسمح بحركة المرور



1. فقط لليسر.
2. فقط إلى الأمام.
3. إلى اليسار وإلى الخلف.

3 : پاسخ :

تشير هذه العلامة إلى اقتراب النفق التالي



1. حيث لا توجد علامات طريق.
2. حيث لا توجد إضاءة إصطناعية.

2 : پاسخ :

هذه العلامة تبلغ مقيماً



1. حول ضرورة إفساح الطريق لراكب الدراجة الهوائية.
2. حول التقاطع مع مسار عبور الدراجات الهوائية.
3. حول الاقتراب من ساحة الدراجات الهوائية.

2 : پاسخ :

من هم سائقي المركبات الذين يخضعون للافتات التالية؟



1. سيارات الركاب الخفيفة والدراجات النارية.
2. كل سائقي المركبات.
3. فقط سائقي سيارات الركاب الخفيفة.

1 : پاسخ :

في أي حالة تابعة للعلامة التالية بعد التوقف لا يمكن استئناف الحركة بدون إذن؟



1. فقط 2.
- 1 و 2.
- 3 فقط.
4. كل الحالات السابقة المذكورة.

3 : پاسخ :