


Который из знаков означает "Объезд препятствия слева"?



- 1.1
- 2.2
- 3.3
- 4.4
- 5.5

отв.'3


Разрешается ли водителю автобуса въехать на перекресток в данной ситуации?



- 1. Разрешается
- 2. Запрещается
- 3. Разрешается, если автобус движется по установленному маршруту.

отв.'2

Из какой полосы следует выполнять поворот направо в указанной ситуации?



- 1. Только из второй полосы.
- 2. Только из крайней правой полосы, обозначенной разметкой "А".

отв.'2

На перекрестке организовано круговое движение. Проезжая часть, по которой Вы подъезжаете к перекрестку имеет две полосы движения. Какую полосу Вы обязаны занять для поворота при въезде на перекресток?

- 1. Правую полосу.
- 2. Левую полосу.
- 3. Правую или левую полосу.

отв.'3

Разрешается ли повернуть во двор из указанного места?



- 1. Разрешается
- 2. Запрещается

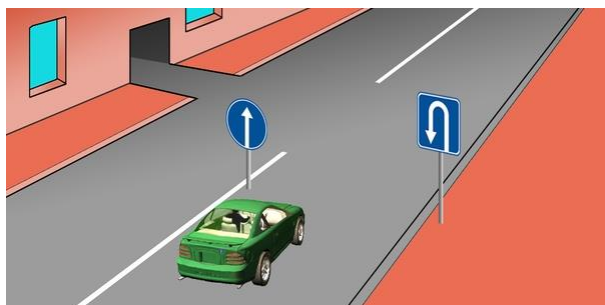
отв.'1

На дорогах с двусторонним движением, имеющих три полосы, обозначенные разметкой, из которых средняя используется для движения в обоих направлениях (за исключением дорог с реверсивным регулированием движения) въехать на крайнюю левую полосу:

- 1. Разрешается
- 2. Запрещается
- 3. Разрешается только для обгона, объезда, поворота налево или разворота.

отв.'2

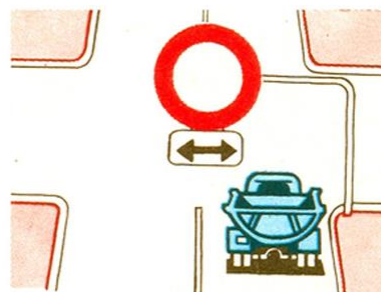
В каком ответе правильно указано разрешенное направление движения?



1. Только разворот.
2. Прямо и разворот.
3. Только прямо.

отв. '3

В каком направлении запрещено движение?



1. Налево и направо.
2. Прямо и в обратном направлении.
3. Только прямо.
4. Во всех направлениях

отв. '1

Разворот запрещается:

1. На пешеходных переходах.
2. В тоннелях.
3. На мостах, путепроводах, эстакадах и под ними.
4. На железнодорожных переездах
5. Во всех перечисленных случаях.

отв. '5

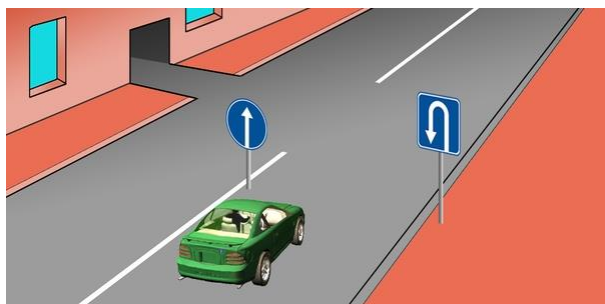
Разрешается ли водителю желтого автобуса въехать на перекресток?



1. Разрешается
2. Запрещается
3. Разрешается, если автобус движется по установленному маршруту.

отв. '2

В каком ответе правильно указано разрешенное направление движения?



1. Прямо и налево, въезжая во двор.
2. Только прямо.
3. Только разворот
4. Прямо и разворот

отв. '2

Разворот запрещается, если видимость дороги хотя бы в одном направлении менее:

1. 100 м.
2. 150 м.
3. 300 м.

отв. '1

Вы движетесь по дороге с двусторонним движением, имеющей три полосы. В каком случае разрешается въезжать на среднюю полосу?

1. Только для обгона.
2. Только для объезда.
3. Только для поворота налево или разворота.
4. Во всех перечисленных случаях

отв. 4

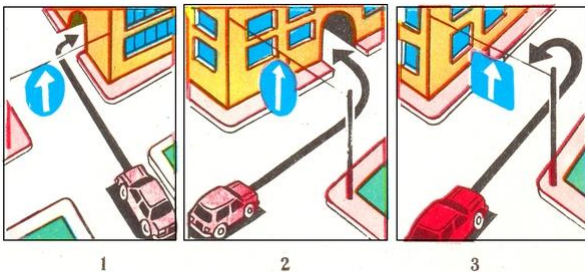
В каком направлении разрешается движение грузового автомобиля?



1. Только направо.
2. Направо, налево и в обратном направлении.
3. Только налево

отв. 2


На каком рисунке водитель правильно выполняет маневр?



- 1.1
- 2.2
- 3.3

отв. 1

Водитель какого транспортного средства правильно выполняет разворот?



1. Водитель синего автомобиля.
2. Водитель красного автомобиля.
3. Оба водителя.

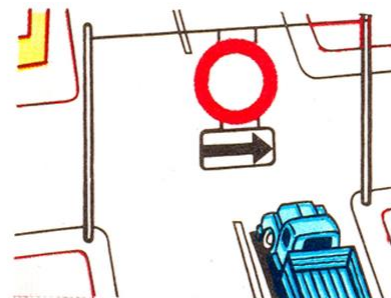
отв. 2

На дорогах с двусторонним движением при отсутствии дорожных знаков, разметки и разделительной полосы водители должны объезжать элементы дорожных сооружений, находящихся на проезжей части дорог:

1. Справа.
2. Слева.

отв. 1


В каком направлении запрещено движение?



1. Только налево.
2. Только направо.
3. Прямо и налево.
4. Во всех направлениях

отв. 2

Водитель какого транспортного средства нарушает правила поворота с дороги, на которой есть полоса торможения?



1. Оба водителя.
2. Водитель желтого автомобиля.
3. Оба водителя выполняют поворот правильно.

отв. '2

Разрешается ли водителю красного автомобиля в данной ситуации продолжить движение?



1. Разрешается
2. Запрещается


отв. '2

На дороге с двусторонним движением, имеющей три полосы, Вам необходимо совершить левый поворот. С какой полосы Вы совершите данный маневр?

1. С правой полосы.
2. Со средней полосы.
3. С правой или средней полосы.
4. Со средней полосы, если правая полоса занята.

отв. '2

Разрешается ли водителю красного автомобиля двигаться по трамвайным путям?



1. Разрешается
2. Запрещается

отв. '1

Разворот запрещается:

1. На пешеходных переходах и тоннелях.
2. На мостах, путепроводах, эстакадах и под ними.
3. На железнодорожных переездах.
4. В местах с видимостью дороги хотя бы в одном направлении менее 100 м.
5. Во всех перечисленных случаях.

отв. '5


В каких направлениях разрешается движение?



1. Только налево.
2. Прямо, налево и в обратном направлении.
3. Только прямо.

отв. '2

Водители каких транспортных средств нарушили требования дорожного знака?



1. Водители мотоциклов.
2. Водители автомобиля и мотоцикла с боковым прицепом.
3. Только водитель автомобиля.
4. Водители всех транспортных средств.

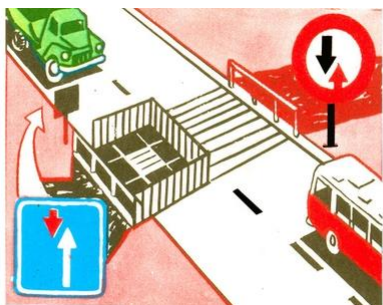
отв. 4

При одновременном перестроении транспортных средств, движущихся попутно, дорогу должен уступить:

1. Водитель транспортного средства, находящегося слева.
2. Водитель транспортного средства, находящегося справа.

отв. 1

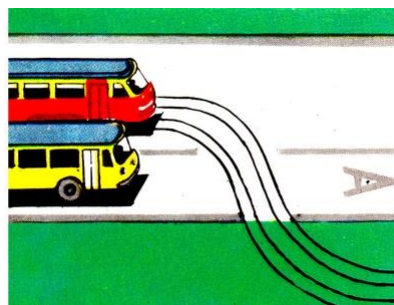
Водитель какого транспортного средства имеет право на первоочередное движение?



1. Водитель грузового автомобиля.
2. Водитель автобуса.

отв. 1

Обязан ли водитель автобуса, движущегося по установленному маршруту, уступать дорогу в данной ситуации?



1. Обязан.
2. Не обязан.
3. Не обязан, так как он движется прямо.

отв. 1

Если встречный разъезд на уклонах, обозначенных соответствующими знаками, затруднен, необходимо уступить дорогу:

1. Транспортному средству, движущемуся на спуск.
2. Транспортному средству общего пользования
3. Транспортному средству, движущемуся на подъем.

отв. 3


Водитель какого транспортного средства должен уступить дорогу?



1. Водитель трактора.
2. Водитель автобуса.

отв. 2

Преимущество в движении имеет:



1. Синий автомобиль, так как красный меняет направление движения налево.
2. Красный автомобиль, так как при одновременного перестроения находится в правой стороне.
3. Синий автомобиль, так как при одновременного перестроения находится в левой стороне.

отв. 2

Обязаны ли водители транспортных средств в населенных пунктах уступать дорогу транспортным средствам общего пользования, начинающим движение от оборудованной территории обозначенного места остановки?

1. Да.
2. Нет.

отв. 1

Водитель какого транспортного средства должен уступить дорогу?



1. Водитель легкового автомобиля.
2. Водитель грузового автомобиля.

отв. 1

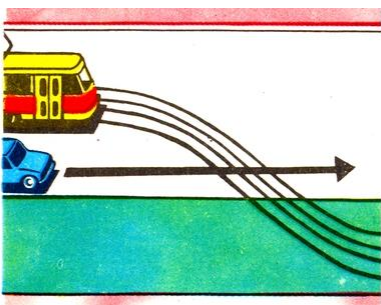
Водитель какого транспортного средства должен уступить дорогу?



1. Водитель автобуса.
2. Водитель автомобиля.

отв. 2


Водитель какого транспортного средства должен уступить дорогу?



1. Водитель автомобиля.
2. Водитель трамвая.

отв. 1

Укажите очередность проезда перекрестка:



1. Автобус, грузовой автомобиль, гужевая повозка.
2. Автобус и гужевая повозка, грузовой автомобиль.

отв. 2

При встречном разъезде на крутом спуске необходимо уступить дорогу:

1. Транспортному средству общего пользования.
2. Транспортному средству, движущемуся вверх.
3. Транспортному средству, движущемуся вниз.

отв. 2

Разрешается ли транспортным средствам общего пользования в населенных пунктах на дорогах, имеющих три полосы и более для движения в одном направлении, выезжать на крайнюю левую полосу?

1. Разрешается при обгоне.
2. Разрешается при левом повороте или развороте.
3. Разрешается во всех случаях.

отв. 2

Разрешается ли транспортным средствам общего пользования на всех дорогах, имеющих три полосы и более для движения в одном направлении, выезжать на крайнюю левую полосу?

1. Разрешается при обгоне
2. Разрешается при левом повороте или развороте.
3. Разрешается во всех случаях.

отв. 2

Как должен поступить водитель маршрутного автобуса в данной ситуации?



1. Уступить дорогу легковому автомобилю.
2. Включить указатель поворота, дать звуковой сигнал и начать движение.
3. Начать движение, зная, что водитель легкового автомобиля уступает дорогу.

отв. 3

В данной ситуации водитель белого легкового автомобиля:



1. Должен уступить дорогу маршрутному автобусу, который начинает движение от обозначенного места остановки.
2. Имеет право право на первоочередное движение, так как маршрутный автобус перестраивается, переходя на вторую полосу.

отв. 1

Водитель какого транспортного средства имеет право право на первоочередное движение?



1. Водитель легкового автомобиля.
2. Водитель маршрутного автобуса.

отв. 1

Водитель какого транспортного средства имеет право на первоочередное движение в данной ситуации?



1. Водитель автобуса.
2. Водитель легкового автомобиля.
3. Водитель легкового автомобиля не имеет право переехать на правую полосу.

отв. 1

Обязан ли водитель автобуса уступить дорогу грузовому автомобилю на перекрестке, где организовано кольцевое движение?



1. Обязан.
2. Не обязан.

отв. 2

Обязан ли водитель автобуса, продолжающего движение прямо, уступить дорогу грузовому автомобилю?



1. Обязан.
2. Не обязан.

отв. 1

Если Вы намерены продолжить движение прямо, какому транспортному средству Вы должны уступить дорогу?



1. Обоим транспортным средствам.
2. Только автобусу.
3. Только легковому автомобилю.
4. Никому.

отв. 1

Если Вы намерены продолжить движение прямо, кому Вы должны уступить дорогу?



1. Только легковому автомобилю.
2. Только автобусу и легковому автомобилю.
3. Всем транспортным средствам.
4. Только мотоциклу.

отв. 2

В данной ситуации обязан ли водитель мотоцикла уступить дорогу?



1. Не обязан.
2. Обязан.

отв. 2



В данной ситуации имеете ли Вы право на указанный маневр?



1. Да.
2. Нет.

отв. 2


Вы продолжаете движение прямо, какому транспортному средству Вы должны уступить дорогу?



1. Только легковому автомобилю.
2. Грузовому автомобилю.
3. Обоим транспортным средствам.
4. Никому.

отв. 3

Вы продолжаете движение прямо, обязаны ли Вы уступить дорогу легковому автомобилю?



1. Обязаны.
2. Не обязаны.

отв. 2

Вы начинаете движение с обочины, обязаны ли Вы уступить дорогу легковому автомобилю, выполняющему разворот?



1. Обязаны.
2. Не обязаны.

отв. 1

Вы продолжаете движение прямо, какому транспортному средству Вы должны уступить дорогу?



1. Только легковому автомобилю.
2. Никому.
3. Только легковому автомобилю и мотоциклу.
4. Всем транспортным средствам.

отв. 1

Если Вы намерены совершить левый поворот, какому транспортному средству Вы должны уступить дорогу?



1. Мотоциклу.
2. Патрульной машине.
3. Всем транспортным средствам.

отв. 3

Если Вы намерены произвести разворот на перекрестке, какому транспортному средству Вы должны уступить дорогу?



1. Легковому автомобилю.
2. Всем транспортным средствам.
3. Грузовому автомобилю.

отв. 2

Если Вы намерены совершить левый поворот на перекрестке, какому транспортному средству Вы должны уступить дорогу?



1. Грузовому автомобилю.
2. Всем транспортным средствам.
3. Никому.

отв. 2

Если Вы намерены совершить левый поворот на перекрестке, какому транспортному средству Вы должны уступить дорогу?



1. Только автобусу.
2. Только грузовому автомобилю с включенным проблесковым маячком.
3. Всем транспортным средствам.

отв. 2

Если Вы намерены совершить поворот на перекрестке, какому транспортному средству Вы должны уступить дорогу?



1. Грузовому автомобилю.
2. Легковому автомобилю.
3. Всем транспортным средствам.
4. Никому.

отв. 1

Если Вы намерены выполнить поворот налево, какому транспортному средству Вы должны уступить дорогу?



1. Автобусу
2. Автобусу и легковому автомобилю
3. Легковому автомобилю.
4. Никому.

отв. 4

Если Вы намерены выполнить поворот направо, обязаны ли Вы уступить дорогу легковому автомобилю?



1. Обязаны.
2. Не обязаны.

отв. 2

Если Вы намерены выполнить поворот направо, какому транспортному средству Вы должны уступить дорогу?



1. Никому.
2. Легковому автомобилю.
3. Мотоциклу и легковому автомобилю.

отв. 1

Обязаны ли мы в данной ситуации уступить дорогу водителю автомобиля, приближающегося с противоположной стороны?



1. Да.
2. Нет.

отв. 1

В данной ситуации Вы обязаны:



1. Уступить дорогу.
2. Проехать первыми.

отв. 1

В данной ситуации:



1. Можем объехать грузовой автомобиль с правой стороны, по обочине.
2. Продолжить движение только после проезда грузового автомобиля.
3. Разрешаются оба действия.

отв. 2

В этой ситуации:



1. Вы должны уступить дорогу.
2. Вы можете проехать первыми.

отв. 2

В данной ситуации при движении прямо разрешается:



1. Объехать грузовой автомобиль с правой стороны.
2. Продолжить движение только после проезда грузового автомобиля.
3. Обе указанные ситуации разрешаются.

отв. 3

Выйдя на дорогу, в данной ситуации мы обязаны уступить:



1. Приближающимся с правой стороны водителям
2. Всем водителям
3. Водителям и пешеходам

отв. 3

В данной ситуации уступить дорогу обязан:



1. Водитель легкового автомобиля.
2. Водитель мотоцикла.

отв. 1

В какой из изображенных на рисунке ситуаций водитель синего автомобиля имеет право на первоочередное движение по отношению к другим водителям?



1. Лево
2. Право
3. Обоих

отв. 3

Разворот в указанном месте:



1. Разрешается, если не приближается поезд
2. Разрешается
3. Запрещается

отв. 2

Водитель какого транспортного средства должен уступить дорогу?



1. Грузового автомобиля
2. Легкового автомобиля

отв. 2

С этой полосы в каком направлении может продолжить движение водитель легкового автомобиля?



1. Только прямо.
2. Прямо и направо.
3. Любом.
4. Прямо, налево и в обратном направлении.

отв. 4

При выполнении правого поворота на прилегающую справа дорогу необходимо:



- 1.Продолжить движение с этой полосы и выполнить поворот только с данной полосы.
- 2.Перестроиться на полосу торможения и поворот выполнить только с данной полосы.
- 3.Оба варианта верны.

отв. 2

При въезде в левый двор кому следует уступить дорогу?



- 1.Только водителю, приближающемуся с противоположной стороны.
- 2.Водителю и пешеходу.
- 3.Никому

отв. 2

Разворот на данном перекрестке:



- 1.Разрешается
- 2.Запрещается

отв. 1

Обязан ли водитель легкового автомобиля уступить дорогу водителю автокрана, перестраивающегося на его полосу?



- 1.Да, если автокран оборудован оранжевыми проблесковыми маячками.
- 2.Да
- 3.Нет

отв. 3

Разрешается ли разворот в данном месте?



- 1.Да
- 2.Разрешается, если видимость составляет 100 или более метров.
- 3.Нет

отв. 2

Обязан ли водитель легкового автомобиля перестроиться на крайнюю правую полосу после завершения обгона?



- 1.Нет, если действуют правила движения в населенном пункте.
- 2.Да
- 3.Нет


отв. 1

В тех случаях, когда полосы движения транспортных средств пересекаются, а последовательность проезда не установлена правилами, дорогу должен уступить тот водитель,

1. к которому справа приближается транспортное средство.
2. к которому слева приближается транспортное средство.

отв. 1

Какой водитель должен уступить дорогу?



1. Водитель, начинающий движение.
2. Водитель, собирающийся остановиться.

отв. 1

Разворот в указанном месте:



1. Разрешается
2. Разрешается, если не препятствует водителям транспортных средств общего пользования.
3. Запрещается

отв. 3

Водитель легкового автомобиля:



1. Должен уступить дорогу.
2. Имеет преимущество, поскольку подъехал с правой стороны.

отв. 1

Обязан ли водитель перестроиться на правую полосу и только после этого выполнить поворот направо в данной ситуации?



1. Да
2. Нет

отв. 2

Разрешается ли разворот при нахождении в пределах моста?



1. Разрешается, если видимость составляет 100 или более метров.
2. Запрещается.

отв. 2

Въезд на перекресток с указанной полосы:



1. Разрешается только при выполнении разворота.
2. Разрешается в любом случае.

отв. 2

Разрешен ли разворот в указанном месте?



1. Да.
2. Разрешен, если видимость составляет 100 или более метров.
3. Нет

отв. 2

Водитель, двигающийся без перестроения, уступить дорогу водителю, перестраивающемуся с правой стороны:



1. Не обязан.
2. Обязан.

отв. 1

Разворот в данном месте:



1. Разрешается
2. Запрещается

отв. 1

При одновременном начале движения с парковки обязаны ли Вы уступить дорогу впереди находящемуся водителю?



1. Да
2. Нет

отв. 1

Разрешается ли на перекрестке разворот с применением заднего хода?



1. Да
2. Да, если это не создаст препятствия для движущихся по перекрестку.
3. Нет

отв. 3

Разрешается ли водителю выполнить поворот направо в данной ситуации?



1. Да
2. Нет

отв. 2

При остановке в данной ситуации какой световой указатель должен включить водитель?



1. Правый
2. Правый, после перестроения левый.
3. Левый

отв. 3

По причине отсутствия видимости, при движении задним ходом водитель должен:

1. Подать звуковой сигнал
2. Включить аварийную световую сигнализацию.
3. Обратиться за помощью к другим людям.

отв. 3

Выполнение разворота, при использовании въезда во двор движением задним ходом, в данной ситуации:



1. Разрешается, если не это препятствует движению других.
2. Запрещается

отв. 1

Разрешается ли водителю легкового автомобиля начать движение?



1. Да
2. Да, если это не создаст препятствия для водителя грузового автомобиля.
3. Нет

отв. 2

В каком варианте разрешен разворот?

1. На перекрестке.
2. На правых полосах, не являющихся крайними.
3. На пешеходных переходах

отв. 2



В данной ситуации разрешается ли водителю движение по трамвайным путям?



1. Да
2. Разрешается только при выполнении разворота или поворота налево
3. Нет

отв. 3

Обязан ли водитель в данной ситуации при выполнении поворота налево подать сигнал световым указателем?



1. Да
2. Да, когда присутствует движущийся навстречу
3. Не обязан

отв. 1

Разрешается ли водителю легкового автомобиля подъехать задним ходом к пассажиру, стоящему на мосту?



1. Да
2. Да, если это не создаст препятствия другим участникам
3. Нет

отв. 3

Разрешается ли разворот в данной ситуации?



1. Разрешается, если для движущихся сзади мы видимы со 100 и более метров.
2. Запрещается

отв. 1

Какое правило нарушает водитель, въезжая во двор?



1. Выполняет поворот направо в зоне действия знака только прямо.
2. Не подает сигнала световым указателем.
3. Оба нарушения одновременно.

отв. 2

Уступить дорогу водителю грузового автомобиля:



1. Обязаны.
2. Обязаны, если он рукой подает об этом сигнал.
3. Не обязаны.

отв. 3

Дорогу должен уступить:



1. Водитель легкового автомобиля.
2. Водитель грузового автомобиля.

отв. `2

Если мы случайно проехали перекрёсток, разрешено ли в этой ситуации использовать задний ход, чтобы затем продолжить движение в необходимом нам направлении?



1. Да
2. Нет

отв. `2

С этой полосы продолжить движение разрешается:



1. Только налево.
2. Налево и в обратном направлении.
3. Направо, налево и в обратном направлении.

отв. `2

В данной ситуации разрешается ли въезд в правый двор, выполнив разворот?



1. Да, если это не создаст препятствия для транспортных средств общего пользования.
2. Нет

отв. `2

При перестроении на соседнюю полосу в данной ситуации:



1. Вы обязаны уступить водителям, движущимся по указанной полосе.
2. Вы имеете преимущество в движении.

отв. `1

В данной ситуации разрешается ли подъехать задним ходом к пассажиру?



1. Да
2. Нет

отв. `1

Как Вы должны поступить при левом повороте и развороте вне перекрестка?

1. Должны уступить дорогу встречным транспортным средствам
2. Должны уступить дорогу встречным транспортным средствам и трамваям, движущимся попутно.

отв. 2

Разрешен ли разворот в данной ситуации?



1. Запрещается
2. Разрешается до пешеходного перехода

отв. 1

Начиная движение, обязаны ли Вы уступить дорогу водителю, выполняющему разворот?



1. Да
2. Нет

отв. 1

Подъехать задним ходом к пассажиру в данной ситуации:



1. Разрешается
2. Разрешается, если не это препятствует движению других водителей.
3. Запрещается

отв. 3

Какой водитель нарушает правила движения, выйдя с перекрестка с круговым движением?



1. Легкового автомобиля
2. Оба водителя
3. Никто

отв. 1

Разворот на данном перекрестке:



1. Разрешается
2. Запрещается

отв. 1

В каком направлении движение разрешено?



1. Только налево.
2. Прямо и налево.
3. Налево и в обратном направлении.

отв. 1

Обязаны ли Вы включить правый указатель поворота на данном перекрестке?



1. Да
2. Нет
3. Да, за исключением выполнения разворота

отв. 1

При въезде на прилегающую территорию водитель должен уступить дорогу:

1. Только пешеходам
2. Только велосипедистам
3. Велосипедистам и не должен создавать препятствия для пешеходов

отв. 3

При выезде на дорогу с прилегающей территории водитель должен:

1. Уступить дорогу только пешеходам
2. Уступить дорогу движущимся по ней транспортным средствам
3. Уступить дорогу водителям движущихся транспортным средств и не создавать препятствия для пешеходов

отв. 3

Выполнять разворот после знака разрешается:



1. Только при видимости 100 метров с обеих сторон
2. Если это не создает препятствия
3. Ни в одном из случаев

отв. 3

Подача сигнала преимущество по отношению к другим участникам:

1. Предоставляет
2. Предоставляет только при перестроении
3. Не предоставляет

отв. 3

По указанной траектории поворот направо:



1. Разрешается
2. Запрещается

отв. '1

Проехав грузовой автомобиль, по какой полосе Вы можете продолжить движение?



1. Только правой
2. По обеим параллельным полосам разрешается

отв. '1

Разворот в указанном месте:



1. Разрешается
2. Разрешается, если нет транспортных средств общего пользования
3. Запрещается

отв. '3

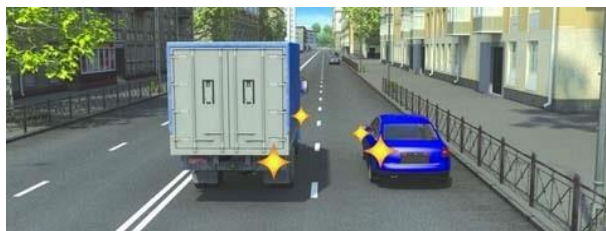
Право на первоочередное движение имеет:



1. Водитель легкового автомобиля.
2. Водитель грузового автомобиля.

отв. '2

При одновременном перестроении водитель какого транспортного средства имеет право на первоочередное движение?



1. Грузового автомобиля
2. Легкового автомобиля

отв. '2

Разрешается ли подъехать задним ходом к пассажиру:



1. Да
2. Нет

отв. '2

При въезде в левый двор мы обязаны уступить дорогу:



1. Только пешеходам
2. Только велосипедисту
3. Никому
4. Велосипедисту и пешеходам

отв. 4

При движении в направлении данного подъема разворот разрешается, если



1. Возможно будет выполнить его одним действием
2. Обеспечена видимость в 100 метров с обеих сторон
3. Запрещается

отв. 2

Водитель какого транспортного средства должен уступить дорогу?



1. Водитель автобуса
2. Водитель легкового автомобиля

отв. 1

Разрешается ли разворот в данном месте?



1. Разрешается в условиях видимости в 100 м с обеих сторон
2. Запрещается

отв. 1

Разрешается ли проехать мост, если это не создает препятствия для водителя мотоцикла?



1. Да
2. Нет

отв. 1