

Խումբ N 4 Ճանապարհային նշաններ և ճանապարհային զծանշումներ

Այս նշանները թույլատրում են երթևեկությունը՝



1. Միայն դեպի ձախ:
2. Միայն ուղիղ:
3. Միայն դեպի աջ:
4. Ուղիղ, դեպի աջ և հակառակ ուղղությամբ:

Պատ.՝ 4


Նշաններից ո՞րն է վարորդին առավելություն տալիս հանդիպակաց տրանսպորտային միջոցների նկատմամբ:



- 1
- 2
- 3
- 4
- 5

Պատ.՝ 4

Թույլատրվում է արդյոք մուտք գործել այս նշանով նշված գոտի աջ շրջադարձ կատարելիս:



1. Թույլատրվում է:
2. Արգելվում է:
3. Թույլատրվում է, եթե այդ գոտին մնացած երթևեկելի մասից բաժանված չէ զծանշման հոծ զծով:

Պատ.՝ 3


Այս ճանապարհային նշանը ցույց է տալիս՝



1. Ճանապարհի հատված, որտեղ առկա է մայթ կամ հետիոտնային արահետ:
2. Ճանապարհի հատված, որտեղ առկա է հետիոտնային անցում:
3. Ճանապարհի հատված, որտեղ բացակայում է մայթ կամ հետիոտնային արահետ:

Պատ.՝ 2


Նշաններից ո՞րն է արգելում երթևեկությունը նշանի վրա պատկերվածից ավելի փոքր միջտարածությամբ:



- 1
- 2
- 3
- 4
- 5

Պատ.՝ 3

Ճանապարհի վտանգավոր հատվածի տեղամասից ի՞նչ հեռավորության վրա են տեղադրվում այս նշանները բնակավայրերում:



1. 15 - 25 մ:
2. 25 - 50 մ:
3. 50 - 100 մ:
4. 100 - 150 մ:
5. 150 - 300 մ:

Պատ.՝ 3

Խումբ N 4 Ճանապարհային նշաններ և ճանապարհային զժանշումներ

Այս ճանապարհային նշանը՝



1. Արգելում է բոլոր մեխանիկական տրանսպորտային միջոցների երթևեկությունը՝ բացառությամբ առանց կողային կցորդի երկամիկ մոտոցիկլների:
2. Արգելվում է բոլոր տրանսպորտային միջոցների երթևեկությունը՝ բացառությամբ անվավոր տրակտորների:
3. Արգելվում է տրակտորների և ինքնագնաց մեքենաների երթևեկությունը:

Պատ.՝ 3

Նշաններից ո՞րն է պարտադրում զիջել ճանապարհը հանդիպակաց ուղղությամբ ճանապարհի նեղ հատված մուտք գործող կամ դրան մոտեցող տրանսպորտային միջոցներին:



- 1
- 2
- 3
- 4
- 5

Պատ.՝ 3

Նշաններից ո՞րն է նախագուշացնում հավասարազոր ճանապարհների խաչմերուկին մոտենալու մասին:



- 1
- 2
- 3
- 4
- 5

Պատ.՝ 5

Նշաններից ո՞րն է տեղադրվում երթևեկելի մասերի հատումից անմիջապես առաջ:



- 1
- 2
- 3
- 4
- 5

Պատ.՝ 2

Ի՞նչ է նշանակում նշանի տակ տեղադրված ցուցանակը:



1. Նշանից մինչև առաջին շրջադարձի սկիզբը եղած հեռավորությունը:
2. Առաջին շրջադարձից մինչև երկրորդ շրջադարձի սկիզբը եղած հեռավորությունը:
3. Վտանգավոր շրջադարձերով ճանապարհի հատվածի երկարությունը:

Պատ.՝ 3

Ի՞նչ են նշանակում հետևյալ նշանները:




1. Մոտոցիկլների երթևեկությունը դեպի աջ արգելվում է:
2. Մոտոցիկլների երթևեկությունը դեպի աջ թույլատրվում է:

Պատ.՝ 1

Խումբ N 4 Ճանապարհային նշաններ և ճանապարհային գծանշումներ

Նշաններից ո՞րն է արգելում կայանումն անսվա զույգ օրերին:



Պատ.՝ 5

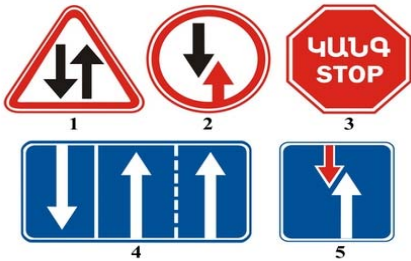
Այս ճանապարհային նշանը՝



1. Թույլատրում է երթևեկել միայն նշված կամ ավելի բարձր արագությամբ:
2. Արգելում է երթևեկել նշանի վրա նշվածից ավելի բարձր արագությամբ:
3. Ցույց է տալիս այն արագությունը, որով առաջարկվում է երթևեկել ճանապարհի տվյալ հատվածում:

Պատ.՝ 1

Հետևյալ նշաններից ո՞րն է պարտադրում զիջել ճանապարհը հանդիպակաց երթևեկող տրանսպորտային միջոցներին:



Պատ.՝ 2

Այս նշանը կոչվում է՝



1. Արգելքի շրջանցման նախնական ցուցիչ:
2. Այլ երթևեկելի մաս վերադասավորվելու նախնական ցուցիչ:
3. Հանդիպակաց երթևեկության գոտի դուրս գալու նախնական ցուցիչ:

Պատ.՝ 2

Նշաններից ո՞րն է պարտադրում զիջել ճանապարհը հատվող ճանապարհով ընթացող տրանսպորտային միջոցներին:



Պատ.՝ 3

Թույլատրվում է արդյոք ավտոբուսի վարորդին վազանց կատարել այս նշանի ազդման գոտում:



1. Թույլատրվում է բոլոր դեպքերում՝ վազանցի կանոնները պահպանելով:
2. Չի թույլատրվում:
3. Թույլատրվում է, եթե վազանցվող տրանսպորտային միջոցի արագությունը չի գերազանցում 30 կմ/ժ:

Պատ.՝ 1

Խումբ N 4 Ճանապարհային նշաններ և ճանապարհային գծանշումներ

Հետևյալ նշաններից ո՞րն է թույլատրում երթևեկել միայն նշված (կմ/ժ) կամ ավելի բարձր արագությամբ:

Պատ.՝ 3

Նշաններից ո՞րն է ցույց տալիս միակողմ երթևեկության ճանապարհի հատվածը:

Պատ.՝ 3

Ի՞նչ է ցույց տալիս այս նշանի տակ տեղադրված ցուցամակը՝

1. Ճանապարհի նեղ հատվածի երկարությունը:
2. Նշանից մինչև սահմանափակման տեղն ընկած հեռավորությունը:
3. Մինչև ճանապարհի նեղ հատվածի շրջանցման տեղն ընկած հեռավորությունը:

Պատ.՝ 2

Այս ճանապարհային նշանը նախազգուշացնում է, որ առջևում՝

1. Կամուրջ կամ լաստամակային անցում չունեցող ջրային արգելքով ճանապարհահատված է:
2. Ջրային արգելքով ճանապարհահատված է, որի վրա առկա է բացվող կամուրջ:
3. Տեղամաս է, որտեղ ճանապարհը դուրս է գալիս ափ կամ առափ:

Պատ.՝ 3

Նշաններից ո՞րն է ցույց տալիս տրանսպորտային միջոցների կանգառն ու կայանելն արգելող ճանապարհային նշանների ազդման գոտին:


Պատ.՝ 4

Հետևյալ նշաններից ո՞րն է ցույց տալիս նախազգուշացնող նշանների ազդեցության՝ ճանապարհի վտանգավոր հատվածի երկարությունը:

Պատ.՝ 4

խումբ N 4 ճանապարհային նշաններ և ճանապարհային զժանշումներ


Այս ճանապարհային նշանը ցույց է տալիս՝



1. Միակողմ երթևեկությամբ ճանապարհ, որով թույլատրվում է միայն բեռնատար ավտոմոբիլների երթևեկությունը:
2. Միայն բեռնատար ավտոմոբիլների երթևեկության համար նախատեսված գոտին:
3. Բեռնատար ավտոմոբիլների համար առաջարկվող երթևեկության ուղղությունը:

Պատ.՝ 3

Նշաններից ո՞րն է կոչվում «Յուրանոց» կամ «Մոթել»:



- 1
- 2
- 3
- 4
- 5

Պատ.՝ 3


Այսպիսի ճանաչման նշանով կահավորվում են այն ավտոմոբիլները, որոնք՝



1. Փոխադրում են վտանգավոր բեռներ:
2. Ղեկավարվում են հաշմանդամների կողմից:
3. Ղեկավարվում են խուլ կամ խուլ ու համը վարորդների կողմից:
4. Ղեկավարվում են մինչև 3 տարի վարորդական փորձ ունեցող վարորդների կողմից:

Պատ.՝ 3

Նշաններից ո՞րն է ցույց տալիս 50 կմ/ժ առավելագույն արագության սահմանափակման գոտու վերջը:



- 1
- 2
- 3
- 4
- 5

Պատ.՝ 2


Ինչի՞ մասին են զգուշացնում այս նշանը և ցուցանակը:



1. Նորոգման աշխատանքների կատարման պատճառով ճանապարհի կողնակին կանգառ կատարելն արգելվում է:
2. Նորոգման աշխատանքների կատարման պատճառով ճանապարհի կողնակ մուտք գործելը վտանգավոր է:
3. Նորոգման աշխատանքների կատարման պատճառով ճանապարհի կողնակին կայանելն արգելվում է:

Պատ.՝ 2

Այսպիսի ճանաչման նշանով են կահավորվում այն տրանսպորտային միջոցները, որոնք՝



1. Ղեկավարվում են հաշմանդամների կողմից:
2. Փոխադրում են ծանրաքաշ և մեծ եզրաչափերով բեռներ:
3. Փոխադրում են վտանգավոր բեռներ:
4. Ղեկավարվում են խուլ կամ խուլ ու համը վարորդների կողմից:

Պատ.՝ 3

Խումբ N 4 Ճանապարհային նշաններ և ճանապարհային զժանշումներ

Նշաններից ո՞րն է վերացնում նախկին բոլոր սահմանափակումները:



Պատ.՝ 4

Ո՞ր դեպքում է վարորդը ճիշտ կատարել այս նշանի պահանջները:



1. Ձիջել է ճանապարհը հատվող ճանապարհով ընթացող մեխանիկական տրանսպորտային միջոցներին:
2. Ձիջել է ճանապարհը հատվող ճանապարհով ընթացող տրանսպորտային միջոցներին:

Պատ.՝ 2


Տեղադրվածներից ո՞րն է կիրառվում որպես ավտոգնացքի ճանաչման նշան:



1. Չախ նշանը:
2. Աջ նշանը:
3. Երկու նշաններն էլ:

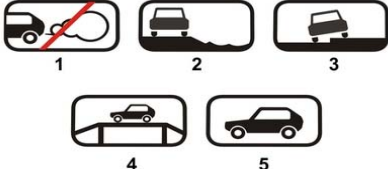
Պատ.՝ 2

Ո՞ր նշանն է պարտադրում զիջել ճանապարհը հատվող ճանապարհով երթևեկող տրանսպորտային միջոցներին:




Պատ.՝ 4

Հետևյալ նշաններից (ցուցանակներից) ո՞րն է ցույց տալիս տրանսպորտային միջոցի կանգնեցման ձևը կայանման տեղերում:



Պատ.՝ 3

Թույլատրվո՞ւմ է արդյոք ուղևորներ նստեցնելու համար կանգ առնել այս նշանով նշված գոտու վրա:



1. Թույլատրվում է, եթե այդ գոտին գտնվում է երթևեկելի մասի աջ եզրի մոտ և մնացած երթևեկելի մասից բաժանված չէ զժանշման հոծ գծով:
2. Արգելվում է:
3. Թույլատրվում է:

Պատ.՝ 1

Խումբ N 4 Ճանապարհային նշաններ և ճանապարհային զժանշումներ


Այս ճանապարհային նշանի առկայության դեպքում՝



1. Արգելվում է բոլոր տեսակի տրանսպորտային միջոցներով վազանցի կատարումը, բացառությամբ դանդաղընթաց տրանսպորտային միջոցների, լժասայլերի, առանց կողային կցորդի երկամիլ մոտոցիկլների, մոպեդների եւ հեծանիվների:
2. Թույլատրվում է 3.5 տ ոչ ավելի թույլատրելի առավելագույն զանգված ունեցող բեռնատար ավտոմոբիլներով վազանցի կատարումը:

Պատ.՝ 1

Նշաններից ո՞րն է կոչվում «Հատում հեծանվային արահետի հետ»:



Պատ.՝ 2

Նշաններից ո՞րն է ցույց տալիս վազանցի արգելման գոտու վերջը:



Պատ.՝ 1

Նշաններից ո՞րն է ցույց տալիս երթևեկության ուղղությունները T-աձև խաչմերուկում:



1. 1
2. 2
3. 3
4. 4
5. 5

Պատ.՝ 2

Այս ճանապարհային նշանը ցույց է տալիս՝



1. Միջանցիկ անցում չունեցող ճանապարհ:
2. Երթևեկության ուղղությունը դեպի բնակավայրում գտնվող օբյեկտ:
3. Թափառքի գոտու կամ վերելքի վրա լրացուցիչ գոտու վերջը:

Պատ.՝ 1

Ո՞ր նշանի ազդեցությունը չի տարածվում ընդհանուր օգտագործման տրանսպորտային միջոցների վրա:



Պատ.՝ 4

Խումբ N 4 Ճանապարհային նշաններ և ճանապարհային զծանշումներ

Ո՞ր տրանսպորտային միջոցների երթևեկությունն է թույլատրվում այս նշանի ազդեցության ճանապարհներին:



1. Մեխանիկական տրանսպորտային միջոցների:
2. Բոլոր տրանսպորտային միջոցների:
3. Ավտոմոբիլների և մոտոցիկլների:
4. Այն տրանսպորտային միջոցների, որոնց առավելագույն արագությունը գերազանցում է 40 կմ/ժ:

Պատ.՝ 3

Այս ճանապարհային նշաններից ո՞րը չի համարվում արգելող:



- 1
- 2
- 3
- 4
- 5

Պատ.՝ 2

Ի՞նչ է նշանակում այս ճանաչման նշանը:



1. Առջևում երթևեկելի մասի անհարթություններ ունեցող ճանապարհի հատված է:
2. Առջևում տվյալ ուղղությամբ երթևեկելու համար երեք գոտի ունեցող ճանապարհի հատված է:
3. Մեխանիկական տրանսպորտային միջոցի վրա տեղադրված են բութակավոր դողեր:

Պատ.՝ 3

Նշաններից ո՞րն է կոչվում «Միակողմ երթևեկությամբ ճանապարհի վերջ»:



- 1
- 2
- 3
- 4
- 5

Պատ.՝ 4

Նշաններից ո՞րն է պարտադրում զիջել ճանապարհը հատվող ճանապարհով ընթացող տրանսպորտային միջոցներին:



- 1
- 2
- 3
- 4
- 5

Պատ.՝ 2

Հետևյալ նշանները ցույց են տալիս՝



1. Կայանման տեղը 30 մետրից՝ «Հաշմանդամներ» ճանաչման նշանով կահավորված ավտոմոբիլների համար:
2. Կայանման տեղը 30 մ երկարությամբ գոտում՝ տրանսպորտային միջոցների համար՝ բացառությամբ մոտոսայլակների:
3. Կայանման տեղը 30 մ երկարությամբ գոտում՝ մոտոսայլակների և «Հաշմանդամ» ճանաչման նշանով կահավորված ավտոմոբիլների համար:

Պատ.՝ 3

խումբ N 4 ճանապարհային նշաններ և ճանապարհային զժանշումներ

Այս նշաններից ո՞րն է համարվում տրանսպորտային միջոցի ճանաչման նշան:



1 2 3

Պատ.՝ 3

Ո՞ր տրանսպորտային միջոցի երթևեկությունն է արգելվում այս ճանապարհային նշանը:



1. Մեխանիկական տրանսպորտային միջոցների:
2. Միայն ավտոմոբիլների:
3. Միայն թեթև մարդատար ավտոմոբիլների:

Պատ.՝ 1

Նշաններից ո՞րն է ցույց տալիս արգելքի շրջանցումն աչից կամ ձախից:



1 2 3
4 5

Պատ.՝ 5

Նշաններից ո՞րն է տեղադրվում տրանսպորտային միջոցների առջևի և ետևի կողմերում՝ երեխաների կազմակերպված խմբեր տեղափոխելիս:



1 2 3 4

Պատ.՝ 1

Ի՞նչ են ցույց տալիս նշված ճանապարհային նշանները:



1. Գլխավոր ճանապարհը շարունակվում է խաչմերուկից դեպի ձախ:
2. Գլխավոր ճանապարհը շարունակվում է խաչմերուկից ուղիղ և դեպի ձախ:

Պատ.՝ 1

Ի՞նչ են ցույց տալիս նշված ճանապարհային նշանները:




1. Ցուցանակի ազդեցության գոտում վարորդները պետք է երթևեկեն նշանի վրա ցույց տրվածից ավելի բարձր արագությամբ:
2. Ցուցանակի ազդեցության գոտում վարորդներին առաջարկվում է երթևեկել նշանի վրա ցույց տրված արագությամբ:

Պատ.՝ 2

Խումբ N 4 Ճանապարհային նշաններ և ճանապարհային զժանշումներ

Ո՞ր նշանների ազդեցությունն է գործում միայն այն ժամանակահատվածում, որի ընթացքում երթևեկելի մասի ծածկույթը խոնավ է:



A B C

1. Միայն A և C:
2. Միայն B:
3. Միայն C:
4. Բոլոր:

Պատ.՝ 3

Ինչպե՞ս պետք է վարվի վարորդը տվյալ իրադրությունում:



1. Շարունակի ընթացքն ուղիղ:
2. Վերադասավորվի ճանապարհի հանդիպակաց երթևեկելի գոտի:

Պատ.՝ 2

Ի՞նչ են ցույց տալիս նշված ճանապարհային նշանները:



1. Նշանից 150-300 մետրից հետո աջ կողմից կա ճանապարհի նեղացում, որի երկարությունը 100 մ է:
2. Նշանից 100 մետրից հետո, ճանապարհի աջ կողմից կա ճանապարհի նեղացում:

Պատ.՝ 1

Ո՞ր ուղղությամբ է թույլատրվում վարորդին երթևեկել:



1. Միայն աջ և ձախ:
2. Միայն ուղիղ:
3. Ուղիղ և հակառակ ուղղությամբ:

Պատ.՝ 3

Ի՞նչ են ցույց տալիս նշված ճանապարհային նշանները:



1. Կանգառն արգելված է շաբաթ օրերին:
2. Կանգառն արգելված է կիրակի օրերին:
3. Կանգառն արգելված է շաբաթ-կիրակի և տոն օրերին:
4. Կանգառն արգելված է ծյունաթափի ժամանակ:

Պատ.՝ 3

Ո՞ր ճանապարհային նշանն է արգելում հետադարձը:



1 2 3

Պատ.՝ 3

Խումբ N 4 Ճանապարհային նշաններ և ճանապարհային զժանշումներ

Ի՞նչ են ցույց տալիս նշված ճանապարհային նշանները:



1. Նորոգման աշխատանքների պատճառով կողմնակ մուտք գործելը վտանգավոր է:
2. Ճանապարհին իրականացվում են վերանորոգման աշխատանքներ:

Պատ.՝ 1

Ի՞նչպես պիտի վարվի վարորդն այն դեպքում, երբ խաչմերուկից առաջ տեղադրված է հետևյալ ճանապարհային նշանը:



1. Անցնել խաչմերուկը՝ անվտանգությունը պահպանելով:
2. Ճանապարհը զիջել հատվող ճանապարհով ընթացող տրանսպորտային միջոցներին:
3. Կանգնել նշանի առջև և ճանապարհը զիջել հատվող ճանապարհով ընթացող տրանսպորտային միջոցներին:

Պատ.՝ 3

Ո՞ր ճանապարհային նշանների ազդեցությունը չի տարածվում ընդհանուր օգտագործման տրանսպորտային միջոցների վրա:



1. Ոչ մեկը:
2. Միայն առաջինը:
3. Միայն չորրորդը:

Պատ.՝ 3

Դետևյալ ճանապարհային նշանը ցույց է տալիս՝



1. Խաչմերուկում պետք է երթևեկել դեպի ձախ կամ աջ:
2. Հատվող ճանապարհին կազմակերպված է դարձավիզային երթևեկություն:
3. Հատվող ճանապարհին կազմակերպված է միակողմանի երթևեկություն:

Պատ.՝ 2

Տվյալ իրադրությունում պարտավո՞ր է վարորդը ճանապարհը զիջել բեռնատար ավտոմոբիլին:



1. Պարտավոր է:
2. Պարտավոր չէ:

Պատ.՝ 1

Ի՞նչ են ցույց տալիս հետևյալ ճանապարհային նշանները:



1. Ճանապարհի սառցապատման ժամանակ պետք է երթևեկել 40 կմ/ժ արագությամբ:
2. Թաց ճանապարհածածկույթի դեպքում պետք է երթևեկել 40 կմ/ժ-ից ոչ ավելի արագությամբ:

Պատ.՝ 2

Խումբ N 4 ճանապարհային նշաններ և ճանապարհային զժանշումներ

Ի՞նչ են ցույց տալիս հետևյալ ճանապարհային նշանները:



1. Կանգառն արգելված է շաբաթ օրերին:
2. Կանգառն արգելված է կիրակի օրերին:
3. Կանգառն արգելված է աշխատանքային օրերին:

Պատ.՝ 3

Ի՞նչ է ցույց տալիս հետևյալ ճանապարհային նշանը:



1. Ճանապարհի տվյալ հատվածում թույլատրվում է երթևեկել 50 կմ/ժ-ից ոչ ավելի արագությամբ:
2. Առաջարկվում է ճանապարհի տվյալ հատվածում երթևեկել 50 կմ/ժ արագությամբ:
3. Թույլատրվում է երթևեկել միայն նշանում նշված կամ ավելի բարձր արագությամբ:

Պատ.՝ 2

Ո՞ր ճանապարհային նշանն է պարտադրում վարորդին երթևեկել միայն դեպի ձախ կամ դեպի աջ:



- 1
- 2
- 3

Պատ.՝ 3

Ի՞նչ են ցույց տալիս հետևյալ ճանապարհային նշանները:



1. Թաց ճանապարհածածկույթի դեպքում առաջարկվում է երթևեկել 40 կմ/ժ արագությամբ:
2. Թաց ճանապարհածածկույթի դեպքում թույլատրվում է երթևեկել 40 կմ/ժ-ից ոչ ավելի արագությամբ:

Պատ.՝ 1

Տվյալ ճանապարհային նշանների ազդեցությունը տարածվում է՝



1. Ճանապարհի ձախ կողմում:
2. Ճանապարհի աջ կողմում:
3. Ճանապարհի այն կողմում, որտեղ դրանք տեղադրված են:

Պատ.՝ 3

Տվյալ իրադրությունում ո՞ր հետագծով է թույլատրվում արգելքի շրջանցումը:



1. Միայն «a»:
2. Միայն «b»:
3. «a» և «b»:

Պատ.՝ 3

խումբ N 4 ճանապարհային նշաններ և ճանապարհային զժանշումներ

Ինչպե՞ս պետք է վարվի վարորդը տվյալ իրավիճակում:



1. Անհրաժեշտ է կանգ առնել առաջին նշանի մոտ:
2. Անհրաժեշտ է կանգ առնել երկրորդ նշանից առաջ:
3. Անհրաժեշտ է կանգ առնել երկաթուղային առաջին զծից ոչ պակաս 5 մետր հեռավորության վրա:

Պատ.՝ 2

Ի՞նչպես պետք է վարվի վարորդը, եթե խաչմերուկում մտադիր է կատարել այլ շրջադարձ:



1. Կարող է վերադասավորվել այլ երթևեկի գոտի, դրանից հետո կատարել այլ շրջադարձ:
2. Կարող է մոտենալ խաչմերուկին, այնուհետև կատարել այլ շրջադարձ:
3. Երկու պատասխաններն էլ ճիշտ են:

Պատ.՝ 3

Տվյալ իրադրությունում նշանից 200 մ հեռավորության վրա վարորդն ունի՞ արդյոք հետադարձի իրավունք:



1. Իրավունք ունի:
2. Իրավունք չունի:

Պատ.՝ 1

Տվյալ դեպքում պարտավո՞ր է վարորդը կանգ առնել կարգավորողի կողմից նշված տեղում:



1. Պարտավոր չէ, քանի որ նշանն արգելում է կանգառը:
2. Պարտավոր է:

Պատ.՝ 2

Ինչպե՞ս պետք է վարվի վարորդը տվյալ իրավիճակում:



1. Անցնի երկաթուղային զժանցն՝ ապահովելով անվտանգությունը:
2. Անցնի երկաթուղային զժանցն առանց կանգ առնելու:
3. Կանգ առնի նշանից առաջ և պահպանելով անվտանգություն՝ անցնի բազմագիծ երկաթուղային զժանցը:

Պատ.՝ 3

Ի՞նչ է ցույց տալիս երթևեկի մասում արված զժանշումը:



1. Հանրնթաց ուղղությամբ երթևեկող տրանսպորտային միջոցների համար առանձնացված գոտիների սահմանները:
2. Դարձափոխային երթևեկության գոտու սահմանները:

Պատ.՝ 2

Խումբ N 4 Ճանապարհային նշաններ և ճանապարհային գծանշումներ

Ո՞ր ուղղությամբ է թույլատրվում թեթև մարդատար ավտոմոբիլի երթևեկությունը:



1. Դեպի ձախ և հակառակ ուղղությամբ:
2. Ցանկացած ուղղությամբ:
3. Ուղիղ, ձախ և հակառակ ուղղությամբ:

Պատ.՝ 3

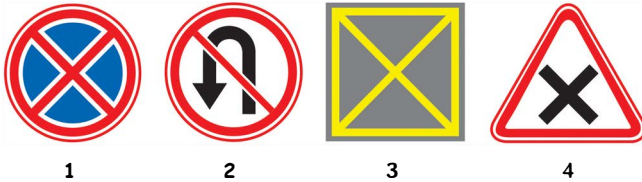
Ինչպե՞ս պետք է վարվի վարորդը տվյալ իրադրությունում:



1. Ամիրաժեշտության դեպքում ճանապարհը զիջի հատվող ճանապարհով երթևեկող տրանսպորտային միջոցին:
2. Կանգ առնի և ճանապարհը զիջի հատվող ճանապարհով երթևեկող տրանսպորտային միջոցին:

Պատ.՝ 2

Ստորև ներկայացվող ճանապարհային նշաններից որն է արգելում մուտք գործել խաչմերուկի տարածք, եթե առջևում երթևեկության ուղղությամբ առաջացել է խցանում, բացառությամբ այն կամ ձախ շրջադարձ կատարելու դեպքերի




1 2 3 4

Պատ.՝ 3

Ինչ առավելագույն հեռավորության վրա է տեղադրվում բարդ խաչմերուկներում «խաչմերուկի տարածք» ճանապարհային նշանը, եթե այն հնարավոր չէ տեղադրել խաչմերուկի սահմանին

1. 10 մետր
2. 20 մետր
3. 30 մետր



Պատ.՝ 3

Ինչի մասին է զգուշացնում հետևյալ ճանապարհային նշանը



1. կանգառն արգելվում է
2. արգելվում է մուտք գործել խաչմերուկի տարածք, եթե առջևում երթևեկության ուղղությամբ առաջացել է խցանում, որը վարորդին կհարկադրի կանգ առնել:
3. արգելվում է մուտք գործել խաչմերուկի տարածք, եթե առջևում երթևեկության ուղղությամբ առաջացել է խցանում:

Պատ.՝ 2

Ինչ է ցույց տալիս հետևյալ ճանապարհային գծանշումը



1. տրանսպորտային միջոցների կայանման վայր
2. հետիոտնային անցման տեղ
3. անվտանգության կղզյակ
4. խաչմերուկի հատված, որտեղ արգելվում է մուտք գործել, եթե առջևում երթևեկության ուղղությամբ առաջացել է խցանում, որը վարորդին կհարկադրի կանգ առնել:

Պատ.՝ 4

Ստորև ներկայացված ճանապարհային գծանշումներից որն է ցույց տալիս խաչմերուկի հատվածը, որտեղ արգելվում է մուտք գործել, եթե առջևում երթևեկության ուղղությամբ առաջացել է խցանում, որը վարորդին կհարկադրի կանգ առնել:



1 2 3

Պատ.՝ 3