


Ո՞ր տրանսպորտային միջոցներին է թույլատրվում կայանումը:



1. Միայն մոտոցիկլին:
2. Միայն բեռնատար ավտոմոբիլին:
3. Միայն թեթև մարդատար ավտոմոբիլին:
4. Թեթև մարդատար ավտոմոբիլին և մոտոցիկլին:
5. Բոլոր տրանսպորտային միջոցներին:

Պատ.՝4

Կայանումն արգելվում է՝

1. Կամուրջների, էստակադների և ուղեկամուրջների վրա:
2. Կամուրջների, էստակադների և ուղեկամուրջների տակ:
3. Թվարկած բոլոր դեպքերում:

Պատ.՝3


Թույլատրվում է արդյոք ուղեւոր իջեցնել ճանապարհի այն տեղում, որտեղ եզրաքարի վերին մակերեսին գծված է դեղին հոծ գիծ և տեղադրված է «Կանգառն արգելվում է» նշանը:



1. Թույլատրվում է:
2. Արգելվում է:
3. Թույլատրվում է՝ ընդհանուր օգտագործման տրանսպորտային միջոցների բացակայության դեպքում:
4. Թույլատրվում է միայն ընդհանուր օգտագործման տրանսպորտային միջոցներին:

Պատ.՝2

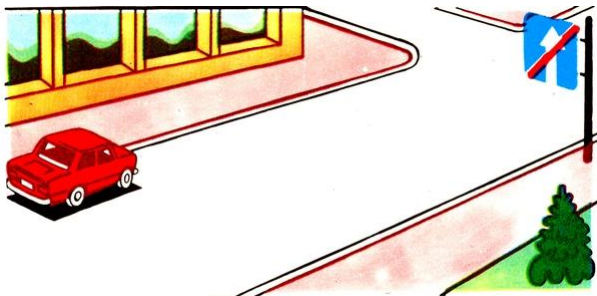
Ազդում է արդյոք արգելիչ նշանը ճանապարհի այն հատվածի վրա, որտեղ կանգառ է կատարել վարորդը:



1. Ազդում է:
2. Չի ազդում:

Պատ.՝1

Թույլատրվում է արդյոք ավտոմոբիլի կայանումը նշված տեղում:



1. Թույլատրվում է:
2. Արգելվում է:

Պատ.՝1

Երկաթուղային գծանցներից ի՞նչ հեռավորության վրա է արգելվում տրանսպորտային միջոցների կայանումը:

1. 300 մ:
2. 150 մ:
3. 100 մ:
4. 50 մ:
5. 25 մ:

Պատ.՝5

Թույլատրվում է արդյոք տվյալ դեպքում կանգ առնել ուղեոր իջեցնելու համար:



1. Թույլատրվում է, եթե դա խոչընդոտ չի ստեղծի ընդհանուր օգտագործման տրանսպորտային միջոցների երթևեկությանը:
2. Արգելվում է:

Պատ.՝1

Վարորդներից ո՞րն է պարտավոր կանգ առնել:



1. Թեթև մարդատար ավտոմոբիլի վարորդը:
2. Ավտոբուսի վարորդը:
3. Երկու վարորդն էլ:

Պատ.՝1

Տվյալ ճանապարհային գծանշումը թույլատրում է երթևեկել՝



1. Միայն դեպի ձախ:
2. Դեպի ձախ եւ հակառակ ուղղությամբ:
3. Միայն հակառակ ուղղությամբ:
4. Ուղիղ, ձախ եւ հակառակ ուղղությամբ:

Պատ.՝2

Ո՞ր տրանսպորտային միջոցներին է թույլատրվում կայանել տվյալ ճանապարհային նշանի ազդեցության գոտում:



1. Միայն ընդհանուր օգտագործման տրանսպորտային միջոցներին:
2. Տրանսպորտային միջոցներին, որոնք վարում են հաշմանդամները եւ միացված հաշվիչով տաքսիներին:

Պատ.՝2

Ի՞նչ է նշանակում տվյալ ճանապարհային գծանշումը:



1. Ուղեորներ նստեցնելու-իջեցնելու տեղ:
2. Ընդհանուր օգտագործման տրանսպորտային միջոցների կանգառի կետ:
3. Ընդհանուր օգտագործման տրանսպորտային միջոցների կանգառի եւ տաքսիների կայանման տեղ:

Պատ.՝2

Ի՞նչ է ցույց տալիս հորիզոնական գծանշման դեղին հոծ գիծը:



1. Այն տեղը, որտեղ արգելվում է տրանսպորտային միջոցների կանգառը եւ կայանումը:
2. Այն տեղը, որտեղ թույլատրվում է կանգառ կատարել՝ ուղեորներ իջեցնելու կամ տրանսպորտային միջոցը բեռնաթափելու համար:
3. Այն տեղը, որտեղ արգելվում է տրանսպորտային միջոցների կայանումը:

Պատ.՝1


Թույլատրվում է արդյոք վարորդին հասել տրանսպորտային միջոցների կայանման տեղերի սահմանները կշող գծանշման հոծ գիծը:



1. Արգելվում է:
2. Թույլատրվում է:

Պատ.՝2

Սլաքներով նշված ո՞ր ուղղություններով է թույլատրվում երթևեկությունը:



1. Միայն ուղիղ:
2. Ղեպի ձախ եւ հակառակ ուղղությամբ:
3. Ուղիղ, ղեպի ձախ եւ հակառակ ուղղությամբ:

Պատ.՝1

Ի՞նչ է ցույց տալիս այս գծանշումը:



1. Հետիոտնային անցում, որտեղ երթևեկությունը կարգավորվում է լուսացույցով:
2. Այն տեղը, որտեղ հեծանվային արահետը հատում է ճանապարհի երթևեկելի մասը:
3. Այն տեղը, որտեղ հետիոտնային արահետը հատում է ճանապարհի երթևեկելի մասը:

Պատ.՝2

Քակի՞ գոտի ունի ճանապարհը, որտեղ հանդիպակաց ուղղությունների տրանսպորտային հոսքերը բաժանվում են կրկնակի հոծ գծերով:



1. Երկու գոտի:
2. Երկու կամ երեք գոտի:
3. Երեք գոտի:
4. Չորս եւ ավելի գոտիներ:

Պատ.՝4

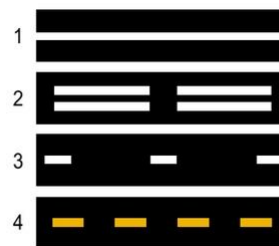
Ի՞նչ են նախազգուշացնում երթևեկելի մասի վրա գծանշված սլաքները:



1. Նախազգուշացնում են վարորդին ճանապարհի վտանգավոր հատվածին մոտենալու մասին:
2. Նախազգուշացնում են երթևեկության գոտու վերջին մոտենալու մասին:
3. Ցույց են տալիս ճանապարհի վտանգավոր շրջադարձի ուղղությունը:

Պատ.՝2

Գծանշման այս գծերից ո՞րն է օգտագործվում դարձափոխային երթևեկությամբ գոտիները նշելու համար:



1. 1-ին գիծը:
2. 2-րդ գիծը:
3. 3-րդ գիծը:
4. 2-րդ եւ 3 -րդ գծերը:
5. 3-րդ եւ 4 -րդ գծերը:

Պատ.՝2

Որտե՞ղ է գծվում կանգառը եւ կայանումն արգելող տեղերը նշող դեղին հոծ գիծը:



1. Երթեւեկելի մասի վրա:
2. Երթեւեկելի մասի եզրի մոտ:
3. Երթեւեկելի մասի եզրի մոտ կամ եզրաքարի վերին մակերեսին:
4. Միայն եզրաքարի վերին մակերեսին:

Պատ.՝3

Ճանապարհային նշաններից որի՞ հետ կարող է կիրառվել դեղին գույնի ընդհատվող գծանշումը:



1. «Կանգառն արգելվում է»:
2. «Կայանելն արգելվում է»:
3. «Կայանելն արգելվում է ամսվա կենտ օրերին»:

Պատ.՝2

Ո՞ր տրանսպորտային միջոցներին է թույլատրվում երթեւեկել երթեւեկելի մասի աջ գոտիով:



1. Բոլոր մեխանիկական տրանսպորտային միջոցներին:
2. Ընդհանուր օգտագործման տրանսպորտային միջոցներին եւ տաքսիներին:
3. Միայն հեծանիվներին:
4. Միայն ընդհանուր օգտագործման տրանսպորտային միջոցներին:

Պատ.՝4

Այս ճանապարհային գծանշումն ունի հետեւյալ նշանակությունը:



1. Ցույց է տալիս մայթամերձ կայանման տեղերը, որտեղ նշված են մեխանիկական տրանսպորտային միջոցների կանգնեցման ձեւերը:
2. Ցույց է տալիս այն տեղերը, որտեղ արգելվում է մեխանիկական տրանսպորտային միջոցների կանգառը:
3. Ցույց է տալիս ընդհանուր օգտագործման տրանսպորտային միջոցների կանգառի կետերը եւ տաքսիների կայանման վայրերը:

Պատ.՝3

Այս հորիզոնական ճանապարհային գծանշումը ցույց է տալիս՝



1. Երթեւեկելի մասի նեղացում, որտեղ նվազում է երթեւեկության գոտիների քանակը տվյալ ուղղությամբ:
2. Այն տեղը, որտեղ վարորդը պետք է անհրաժեշտության դեպքում կանգ առնի՝ հատվող ճանապարհով երթեւեկող տրանսպորտային միջոցներին ճանապարհը զիջելու համար:
3. Մոտեցում կանգառն արգելված տեղին:

Պատ.՝2

Թույլատրվում է արդյոք մուտք գործել սպիտակ լայն գծերով գծանշված ուղղորդ կղզյակ:



1. Թույլատրվում է միայն կանգառ կատարելու համար:
2. Թույլատրվում է հետընթացի ժամանակ:
3. Արգելվում է:

Պատ.՝3

Ինչպե՞ս պետք է վարվի վարորդը՝ մոտենալով խաչմերուկին՝ «Կանգ - գիծ» գծանշման եւ լուսացույցի կանաչ ազդանշանի պայմաններում:

1. Կանգ առնի «Կանգ-գծի» մոտ, որից հետո վերսկսի երթելակայությունը:
2. Շարունակի երթելակայությունը խաչմերուկով՝ առանց կանգառի:

Պատ.՝2

Ի՞նչ է ցույց տալիս այս գծանշումը:



1. Հետիոտնային անցում:
2. Այն տեղը, որտեղ հեծանվային արահետը հատում է ճանապարհի երթելակայի մասը:
3. Անասուններ քշելու համար նախատեսված տեղը:

Պատ.՝2

Վարորդը որտե՞ղ պետք է կանգնեցնի տրանսպորտային միջոցն այս գծանշման առկայության դեպքում:



1. Գծանշման մոտ:
2. Գծանշման վրա:
3. Գծանշումից ոչ պակաս, քան 5 մ հեռավորության վրա:

Պատ.՝1

Ի՞նչ է նշանակում այս գծանշումը:



1. Ընդհանուր օգտագործման տրանսպորտային միջոցների համար նախատեսված երթելակայության գոտի:
2. Հատուկ նշանակության ավտոմոբիլների համար նախատեսված երթելակայության գոտի:
3. Ցույց է տալիս երթելակայության այն գոտիների սահմանները, որտեղ իրականացվում է դարձափոխային կարգավորում:

Պատ.՝3

Թույլատրվու՞մ է արդյոք նշված վայրում հետադարձ կատարել:



1. Թույլատրվում է:
2. Արգելվում է:

Պատ.՝1

Թույլատրվու՞մ է արդյոք տվյալ գծանշման առկայության դեպքում զբոսաշրջության երթուղով երթելակող ավտոբուսի վարորդին մոտը գործել «A» գծանշումով գոտի:



1. Թույլատրվում է:
2. Արգելվում է:

Պատ.՝1

Ի՞նչ է ցույց տալիս ընդհատվող լայն գծի տեսքով գծանշումը:



1. Երթեւեկելի մասի եւ կողնակի միջեւ առկա սահմանը:
2. Երթեւեկելի մասի հիմնական գոտու եւ թափառքի գոտու միջեւ առկա սահմանը:
3. Երթեւեկելի մասի հիմնական գոտու եւ արգելակման գոտու միջեւ առկա սահմանը:

Պատ.՝2

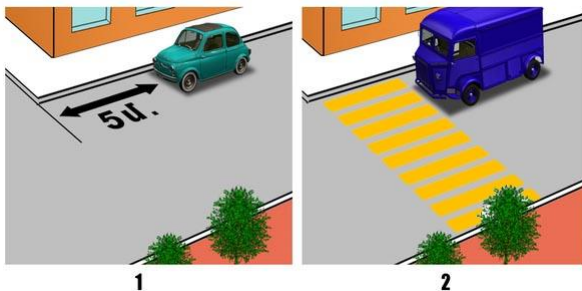
Ո՞ր ավտոմոբիլին է թույլատրվում կանգառ կատարել այս նշանների ազդման գոտում:



1. Կարմիրին:
2. Երկու ավտոմոբիլներին էլ:
3. Ոչ մեկին:
4. Դեղինին՝ «Հաշմանդամ» ճանաչման նշանով կահավորված:

Պատ.՝4

Ո՞ր նկարում է վարորդը ճիշտ կատարել կանգառ՝ ուղեւորներ իջեցնելու համար:



1. Ձախ նկարում:
2. Երկու նկարներում էլ:
3. Աջ նկարում:

Պատ.՝1

Որպես գնացքի կանգառի ազդանշան ծառայում է՝

1. Ձեռքի շրջանածել շարժումը (ցերեկը՝ վառ գույնի լաթով կամ որեւէ լավ տեսանելի առարկայով, գիշերը՝ ջահով կամ լապտերով):
2. Սկավառակով կամ կարմիր դրոշակով գլխավերել բարձրացված ձեռքը:
3. Առաջ պարզած ձեռքը:
4. Վեր եւ վար ճոճվող՝ առաջ պարզած ձեռքը:

Պատ.՝1

Բնակավայրերում, յուրաքանչյուր ուղղությամբ մեկ երթեւեկելի գոտի ունեցող եւ մեջտեղում տրամվայի գծեր չունեցող ճանապարհների ձախ կողմում կանգառն ու կայանումը՝

1. Թույլատրվում է:
2. Արգելվում է:

Պատ.՝1

«Կանգ-գծից» կամ «Երթեւեկությունն առանց կանգառի արգելվում է» նշանից ի՞նչ հեռավարության վրա պետք է կանգնեցվի տրանսպորտային միջոցը՝ մոտեցող գնացքին ճանապարհը զիջելու համար:

1. 1,5 մ:
2. 2,5 մ:
3. 5 մ:
4. 10 մ:
5. Անմիջապես «Կանգ-գծի» եւ (կամ) նշանի մոտ:

Պատ.՝5

Թույլատրվում է արդյոք կանգառը նշված տեղում:



- 1. Թույլատրվում է:
- 2. Արգելվում է:

Պատ.՝2


Թույլատրվում է արդյոք ավտոմոբիլի կանգառն այս վայրում:



- 1. Արգելվում է, քանի որ գծանշման ընդհատվող գծի եւ կանգ առած տրանսպորտային միջոցի միջեւ հեռավորությունը պակաս է 3 մետրից:
- 2. Արգելվում է ամսվա զույգ օրերին:
- 3. Թույլատրվում է:

Պատ.՝3

Ո՞ր տրանսպորտային միջոցի վարորդն է խախտել կայանման կանոնները:



- 1. Կապույտ ավտոմոբիլի վարորդը:
- 2. Կարմիր ավտոմոբիլի վարորդը:
- 3. Երկու վարորդներն էլ խախտել են:
- 4. Երկու վարորդներն էլ չեն խախտել:


Պատ.՝3

Որտե՞ղ է թույլատրվում երկարատեւ հանգստի, գիշերակացի եւ այլ նպատակներով կայանելը բնակավայրերից դուրս:

- 1. Ճանապարհի կողնակներին:
- 2. Կայանման համար նախատեսված հրապարակներում կամ ճանապարհի սահմաններից դուրս:
- 3. Ճանապարհի երթեւեկելի մասի աջ կողմում՝ չխոչընդոտելով այլ տրանսպորտային միջոցների երթեւեկությունը:
- 4. Ճանապարհի ծախ կողմում՝ ապահովելով ճանապարհային երթեւեկության անվտանգությունը:

Պատ.՝2

Կանգառն արգելվում է, եթե հոծ գծի եւ կանգնած տրանսպորտային միջոցի միջեւ տարածությունը կազմում է՝



- 1. 6 մ:
- 2. 5.5 մ:
- 3. 4 մ:
- 4. 3.5 մ:
- 5. 2.5 մ:

Պատ.՝5

Եթե երկաթուղային գծանցով երթեւեկությունը արգելված է եւ բացակայում են լուսացույցը, ճանապարհային նշանները, գծանշումն ու ուղեփակոցը, ապա վարորդը պետք է կանգնի՝

- 1. Մոտակա ռելսից ոչ պակաս, քան 5 մ հեռավորության վրա:
- 2. Մոտակա ռելսից ոչ պակաս, քան 7 մ հեռավորության վրա:
- 3. Մոտակա ռելսից ոչ պակաս, քան 10 մ հեռավորության վրա:


Պատ.՝3

Ի՞նչ հեռավորության վրա է արգելվում տրանսպորտային միջոցների կայանումը երկաթուղային գծանցներից՝

- 1. 15 մ:
- 2. 50 մ:
- 3. 100 մ:
- 4. 150 մ:

Պատ.՝1

Ո՞ր պատասխանում են ճիշտ թվարկած կանգառի կանոնները խախտած վարորդները:



- 1. Կարմիր ավտոմոբիլի եւ մոտոցիկլի վարորդները:
- 2. Կապույտ ավտոմոբիլի վարորդը:
- 3. Մոտոցիկլի վարորդը:
- 4. Բոլոր տրանսպորտային միջոցների վարորդները:

Պատ.՝4

Ո՞ր տրանսպորտային միջոցների վարորդներն են սխալ կանգառ կատարել ուղեւորներ իջեցնելու համար:



- 1. Թեթեւ մարդատար ավտոմոբիլի վարորդը:
- 2. Մոտոցիկլի վարորդը:
- 3. Ավտոբուսի վարորդը:
- 4. Մոտոցիկլի և ավտոբուսի վարորդները
- 5. Բոլոր վարորդները:

Պատ.՝4

Եթե երկաթուղային գծանցով երթեւեկությունն արգելված է եւ բացակայում են լուսացույցը, ճանապարհային նշաններն ու գծանշումը, ապա վարորդը պետք է կանգնի՝

- 1. Ուղեփակոցից ոչ պակաս, քան 5 մ հեռավորության վրա:
- 2. Ուղեփակոցից ոչ պակաս, քան 3 մ հեռավորության վրա:
- 3. Ուղեփակոցից անմիջապես առաջ:

Պատ.՝1

Թույլատրվում է զբոսաշրջային ավտոբուսին երթեւեկել «A» գծանշումով գոտիով:



- 1. Արգելվում է:
- 2. Թույլատրվում է:

Պատ.՝1

Ի՞նչ է նշանակում երթեւեկելի մասի գոտում գծանշված «A» տառը:



- 1. Ճանապարհի (երթուղու) համարը:
- 2. Ընդհանուր օգտագործման տրանսպորտային միջոցների երթեւեկության համար նախատեսված հատուկ գոտի:
- 3. «A» կարգի տրանսպորտային միջոցների երթեւեկության համար նախատեսված հատուկ գոտի:

Պատ.՝2



Տրանսպորտային միջոցին թույլատրվում է կանգնել նշված տողում ուղեւորներ իջեցնելու համար:



1. Թույլատրվում է:
2. Արգելվում է:
3. Թույլատրվում է՝ բայց մայթին բարձրանալով:

Պատ.՝2

Թույլատրվում է շարունակել երթևեկությունը սլաքով նշված ուղղությամբ:



1. Արգելվում է:
2. Թույլատրվում է բոլոր դեպքերում:
3. Թույլատրվում է ուղեւորներ իջեցնելու նպատակով կանգառ կատարելու համար:
4. Թույլատրվում է բեռնատար ավտոմոբիլին վազանցելու նպատակով:

Պատ.՝3

Այսպիսի ուղղաձիգ գծանշմամբ նշվում են՝



1. Կամրջի, թունելի ստորին եզրերը:
2. Չլուսավորված թունելների մուտքը:
3. Ճանապարհային շինությունների ցանկացած տարր, որը վտանգ է ստեղծում երթևեկության համար:

Պատ.՝1

Ինչպե՞ս պետք է վարվի թեթև մարդատար ավտոմոբիլի վարորդը, եթե ավտոբուսի վարորդը սկսել է արգելակել:



1. Շարունակի երթևեկությունը:
2. Դանդաղեցնի ընթացքը, անհրաժեշտության դեպքում կանգնի եւ շարունակի երթևեկությունը՝ համոզվելով, որ անցումում հետիոտներ չկան:
3. Կանգ առնի եւ շարունակի երթևեկությունը միայն այն դեպքում, երբ ավտոբուսը կվերսկսի երթևեկությունը:

Պատ.՝2

Ավտոբուսի վարորդը կատարել է կանգառ ուղեւորներ նստեցնելու նպատակով: Թեթև մարդատար ավտոմոբիլը երթևեկում է 70 կմ/ժ արագությամբ: Ո՞ր տրանսպորտային միջոցի վարորդն է խախտում ճանապարհային երթևեկության կանոնների պահանջները:



1. Ոչ ոք:
2. Ավտոբուսի վարորդը:
3. Թեթև մարդատար ավտոմոբիլի վարորդը:
4. Երկու վարորդներն էլ:

Պատ.՝1

Թվարկվածներից ո՞ր դեպքում կարող է ավտոբուսի վարորդն անցնել երկկողմ երթևեկության եռագոտի ճանապարհի մեջտեղի գոտի, որը օգտագործվում է երկու ուղղությամբ երթևեկության համար:



1. Վազանցելու կամ շրջանցելու նպատակով:
2. Ձախ շրջադարձ կամ հետադարձ կատարելու նպատակով:
3. Վերոնշյալ երկու դեպքում էլ:
4. Ոչ մի պատասխանը ճիշտ չէ:

Պատ.՝3

Որտե՞ր պետք է կանգ առնի վարորդը տվյալ իրավիճակում:



- 1. Կանգառը պարտադիր չէ:
- 2. Լուսացույցի առջև:
- 3. «Կանգ-գիծ» գծանշման առջև:
- 4. Երթելու գոտիների հատման առջև:

Պատ.՝3

Ավտոբուսը կանգ է առել հետիոտնին զիջելու համար: Թեթև մարդատար ավտոմոբիլի վարորդը տվյալ իրադրությունում խախտում է ճանապարհային երթուղային կանոնների պահանջները:



- 1. Խախտում է:
- 2. Չի խախտում:

Պատ.՝1

Թույլատրվում է կանոնավոր ուղևորափոխադրումներ իրականացնող ավտոբուսի վարորդին ուղեւորներ նստեցնելու նպատակով կանգառ կատարել նշված վայրում:



- 1. Արգելվում է:
- 2. Թույլատրվում է:

Պատ.՝1

Չբուսաշրջային ավտոբուսի վարորդը երկարատև հանգստի նպատակով իրավունք ունի՝ կանգ առնել նշված վայրում:



- 1. Իրավունք չունի:
- 2. Իրավունք ունի:

Պատ.՝1

Դեպի ձախ երթուղայինը շարունակելու համար որտե՞ր պետք է կանգ առնի ավտոբուսի վարորդը ճանապարհը թեթև մարդատար ավտոմոբիլին զիջելու համար:



- 1. Ճանապարհային նշանի առջև:
- 2. Գծանշման մոտ:
- 3. Վարորդի հայեցողությամբ անվտանգ տեղում:

Պատ.՝2

Տվյալ իրավիճակում որտե՞ր պետք է կանգ առնել:



- 1. Առաջին ճանապարհային նշանի մոտ:
- 2. «Կանգ-գիծ» գծանշման առջև:
- 3. Երկրորդ ճանապարհային նշանի մոտ:
- 4. Կանգառը պարտադիր չէ:

Պատ.՝2

Տվյալ նշանի ազդեցության գոտում ո՞ր տրանսպորտային միջոցներին է թույլատրվում կանգառ կատարել:



1. Միայն ընդհանուր օգտագործման տրանսպորտային միջոցներին:
2. Միայն հաշմանդամների կողմից ղեկավարվող տրանսպորտային միջոցներին:
3. Միայն միացված հաշվիչով տաքսիներին:
4. Բոլորին արգելվում է:

Պատ.՝4

Նշված ճանապարհային նշանների ազդման գոտում թույլատրվո՞ւմ է կանգառ կատարել, ուղեւորներ նստեցնելու նպատակով:



1. Թույլատրվում է:
2. Արգելվում է:

Պատ.՝1

Ո՞ր տրանսպորտային միջոցների համար է առանձնացված «A» տառով գծանշված գոտին:



1. Միայն ավտոբուսների համար, որոնք շարժվում են սահմանված երթուղով:
2. Տրոլեյբուսների եւ տաքսիների համար:
3. Ընդհանուր օգտագործման տրանսպորտային միջոցների համար:

Պատ.՝3

Թույլատրվո՞ւմ է ավտոբուսների կանգառն ու կայանունը բնակավայրերում երթելակետի մասի ձախ կողմում միակողմ երթելակայանի ճանապարհներին:

1. Թույլատրվում է:
2. Արգելվում է:
3. Թույլատրվում է միայն կանգառ կատարելու համար:

Պատ.՝1

Կանգառի կետերի տարածքից դուրս թույլատրվո՞ւմ է ընդհանուր օգտագործման տրանսպորտային միջոցներին կանգառ կատարել:

1. Արգելվում է:
2. Թույլատրվում է:

Պատ.՝1

Թույլատրվո՞ւմ է ավտոբուսների կայանունը բնակելի գոտիներում եւ բակային տարածքներում:

1. Արգելվում է:
2. Թույլատրվում է՝ դրա համար նախատեսված տեղերում:
3. Թույլատրվում է:

Պատ.՝2

Թո՛ւյատրվում է կանգառը նշված վայրում



- 1. Այո
- 2. Ոչ

Պատ.՝1


Թոյատրվո՞ւմ է կայանումն այս իրավիճակում



- 1. Այո
- 2. Միայն օրվա լուսավոր ժամերին
- 3. Ոչ

Պատ.՝3

Նշվածներից, ո՞ր վայրում է թոյատրվում կանգառ կատարել



- 1. Միայն Ա
- 2. Միայն Բ
- 3. Միայն Բ և Գ
- 4. Ոչ մի վայրում

Պատ.՝2

Ո՞ր վայրում է թոյատրվում կանգառ կատարել



- 1. Միայն Բ
- 2. Միայն Ա և Բ
- 3. Միայն Ա և Գ
- 4. Ոչ մի վայրում

Պատ.՝2

Թո՛ւյատրվում է կանգառ կատարել նշված վայրում



- 1. Այո
- 2. Արգելվում է
- 3. Միայն ուղևոր ստեցնելու նպատակով

Պատ.՝2

Թու՛յատրվում է ուղևոր ստեցնելու նպատակով կանգառը նշված իրավիճակում



- 1. Այո
- 2. Ոչ

Պատ.՝2

Նշվածներից ո՞ր դեպքում է թույլատրվում կանգառ կատարել



1. Միայն Բ
2. Միայն Գ
3. Ա և Գ
4. Բոլոր դեպքերում:

Պատ.՝1

Կանգառն արգելվում է

1. Երկաթուղային գծանցում
2. Երկաթուղային գծանցում և 50մ գծանցին մոտ
3. Երկաթուղային գծանցում և 50մ գծանցից առաջ

Պատ.՝1

Կայանումն արգելվում է

1. Երկաթուղային գծանցում
2. Երկաթուղային գծանցում և 50մ գծանցին մոտ
3. Երկաթուղային գծանցում և 50մ գծանցից առաջ

Պատ.՝2

Ո՞ր տարբերակում է նշված ճիշտ կանգառ կատարողը



1. Միայն Գ
2. Միայն Ա և Գ
3. Միայն Բ և Գ
4. Երեք դեպքերում էլ կարելի է:

Պատ.՝1

Պարտավոր եք արդյո՞ք զիջել բեռնատարին



1. Այո
2. Ոչ

Պատ.՝2

Կանգառը նշված վայրում



1. Թույլատրվում է
2. Արգելվում է

Պատ.՝1


Ե՞րբ է թույլատրվում հասնել զճանշումը



- 1. Հետիոտնային անցումից առաջ
- 2. Հետիոտնային անցումից հետո

Պատ.՝2

Բեռնատարի վարորդը խախտել է արդյո՞ք կանգառ կատարելու կանոնները



- 1. Այո
- 2. Ոչ

Պատ.՝1


Նշված իրավիճակում թույլատրվում է արդյո՞ք կանգառ կատարել ուղևոր նստեցնելու նպատակով



- 1. Այո
- 2. Թույլատրվում է միայն ընդհանուր օգտագործման տրանսպորտային միջոցի վարորդին
- 3. Ոչ

Պատ.՝2

Վարորդներից ո՞վ է խախտել կայանման կանոնները



- 1. Երկու վարորդները
- 2. Միայն թեթև մարդատարի վարորդը
- 3. Միայն մոտոցիկլի վարորդը
- 4. Ոչ ոք:

Պատ.՝2

Ո՞ր տարբերակում է նշված արգելված դիրքով կայանումը կատարած վարորդը



- 1. Միայն Ա
- 2. Միայն Բ

Պատ.՝1

Նշված վայրերից որտե՞ղ կարելի է կայանում կատարել



- 1. Միայն Ա
- 2. Միայն Գ
- 3. Ա կամ Գ

Պատ.՝3

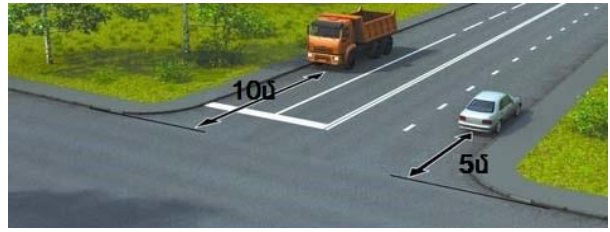
Թույլատրվում է կանգառ կատարել նշված վայրում



- 1. Ոչ
- 2. Այո

Պատ.Վ1

Ո՞վ է խախտել կանգառ կատարելու կանոնները



- 1. Երկու վարորդները
- 2. Միայն բեռնատարի վարորդը
- 3. Միայն թեթև մարդատարի վարորդը
- 4. Ոչ ոք

Պատ.Չ2

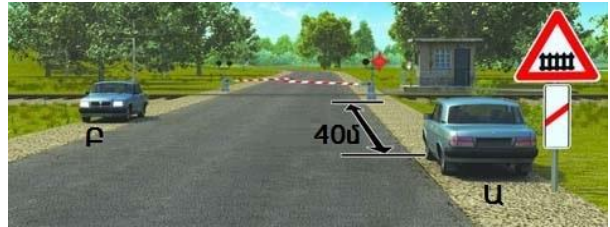
Ո՞ր դեպքում է վարորդը խախտել կանգառ կատարելու կանոնները



- 1. Միայն Ա
- 2. Միայն Բ
- 3. Ոչ ոք
- 4. Երկուսն էլ խախտել են

Պատ.Չ3

Ո՞ր դեպքում է վարորդը խախտել կայանում կատարելու կանոնները



- 1. Միայն Ա
- 2. Միայն Բ
- 3. Երկուսն էլ խախտել են
- 4. Ոչ ոք

Պատ.Չ3

Թույլատրվում է արդյո՞ք կայանումը նշված վայրում



- 1. Արգելվում է
- 2. Թույլատրվում է

Պատ.Վ1

Թույլատրվում է կամուրջի վրա կանգառ կատարել ուղևոր սաստեցնելու նպատակով



- 1. Այո
- 2. Ոչ

Պատ.Չ2

Ո՞ր վարորդն է խախտել կանգառ կատարելու կանոնները



1. Ավտոմոբիլի վարորդը
2. Մոտոցիկլի վարորդը
3. Երկու վարորդները
4. Ոչ ոք

Պատ.՝3


Ո՞ր վարորդն է ճիշտ կատարել կանգառը



1. Միայն Գ
2. Բ կամ Գ
3. Բոլոր վարորդները:

Պատ.՝1

Թո՞ւյլատրվում է կանգառ կատարել նշված վայրում



1. Այո
2. Ոչ

Պատ.՝2

Ո՞ր վարորդն է խախտել կայանման կանոնները:



1. Բեռնատարի վարորդը
2. Թեթև մարդատարի վարորդը
3. Ոչ ոք
4. Երկու վարորդները

Պատ.՝2

Թույլատրվում է արդյո՞ք 3.5 տոննայից թեթև բեռնատարի վարորդին ցուցանակում նշված եղանակով կայանում կատարել:



1. Այո
2. Ոչ

Պատ.՝2

Թո՞ւյլատրվում է կանգառ կատարել նշված վայրում



1. Այո
2. Ոչ

Պատ.՝2



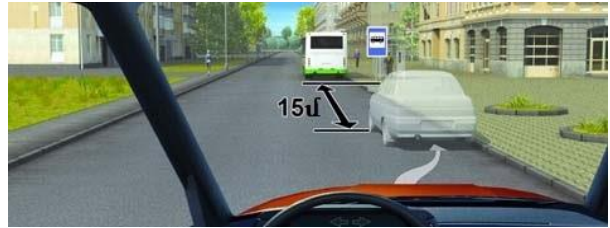
Նշվածներից ո՞ր վայրում է թույլատրված կանգառ կատարել



1. Միայն Ա
2. Միայն Բ
3. Ցանկացած:

Պատ.՝1

Կայանումը նշված վայրում



1. Թույլատրվում է
2. Արգելվում է

Պատ.՝1


Ո՞ր վարորդն է խախտել կայանման կանոնները



1. Միայն Ա
2. Միայն Բ
3. Ոչ ոք

Պատ.՝2


Կանգառ կատարելը նշված վայրում



1. Թույլատրվում է
2. Թույլատրվում է ուղևոր նստեցնելու նպատակով
3. Արգելվում է

Պատ.՝3


Ո՞ր վարորդն է խախտել կանգառ կատարելու կանոնները



1. Միայն Բ
2. Միայն Բ և Գ
3. Բոլորը

Պատ.՝2

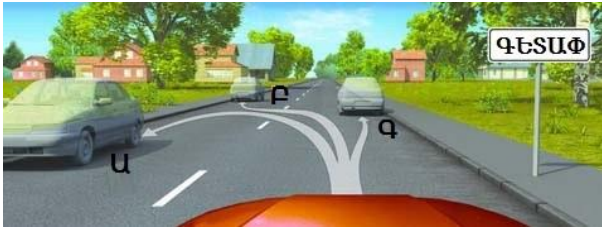
Թույլատրված է վարորդներին կանգառ կատարել նշված վայրում



1. Այո
2. Միայն մոտոցիկլի վարորդին
3. Ոչ

Պատ.՝3

Նշվածներից ո՞ր դեպքում է թույլատրված կանգառը



1. Միայն Գ
2. Միայն Բ և Գ
3. Բոլոր դեպքերում:

Պատ.՝3

Թույլատրվո՞ւմ է կանգառը ավտոմոբիլի տեղակայման նման ձևով



1. Այո
2. Միայն թեթև մարդատարներին
3. Ոչ

Պատ.՝3

Թույլատրվում է արդյո՞ք բեռնատարից առաջ անցնելուց հետո շարունակել երթևեկությունը այս գոտով:



1. Այո
2. Ոչ

Պատ.՝2

Թույլատրվո՞ւմ է այս իրավիճակում շարունակել երթևեկությունը զբաղեցրած գոտով:



1. Այո
2. Ոչ

Պատ.՝1

Կանգառը նշված վայրում



1. Թույլատրվում է
2. Թույլատրվում է, եթե տրանսպորտային միջոցից մինչև զծանշում ընկած հեռավորությունը 3 մետրից ավել է:
3. Արգելվում է

Պատ.՝3

Այս զծանշումը ցույց է տալիս



1. Առավելությունը վերադասավորման ժամանակ
2. Ճանապարհի կորագիծ հատվածին մոտեցումը
3. Գոտու վերջին մոտենալը

Պատ.՝3

Ի՞նչ է ցույց տալիս այս գծանշումը



- 1.«Կանգ-գծին» մոտենալը կարգավորվող խաչմերուկում
- 2.«Կանգ-գիծ» գծանշմանը մոտենալը, երբ այն կիրառվել է«Երթևեկությունն առանց կանգառի արգելվում է» նշանի հետ
- 3.Ուղեփակոցին մոտենալը

Պատ.՝2

Ցանկապատերի ուղղահայաց գծանշումը տեղեկացնում է



- 1.Երկաթուղային գծանցին մոտենալու մասին
- 2.Վտանգավոր խաչմերուկին մոտենալու մասին
- 3.Ճանապարհի վտանգավոր հատվածով երթևեկության մասին

Պատ.՝3

Այս եռանկյունաձև գծանշումը տեղեկացնում է



- 1.Վտանգավոր շրջադարձին մոտենալու մասին
- 2.Ճանապարհը զիջելու տեղին մոտենալու մասին
- 3.Մեքենան կանգնեցնելու տեղին մոտենալու մասին

Պատ.՝2

Այս ընդհատվող գծանշումները խաչմերուկի տարածքում ցույց են տալիս



- 1.Երթևեկության թույլատրելի ուղղությունները
- 2.Երթևեկության գոտիները խաչմերուկի սահմաններում

Պատ.՝2

Այս գծանշումը վազանցը



- 1.Թույլատրում է
- 2.Արգելում է
- 3.Թույլատրում է միայն տրակտորներին վազանցել

Պատ.՝1

Այս ուղղաձիգ գծանշմամբ



- 1.Նշվում են երթևեկելի մասին հարակից բոլոր ուղղահայաց տարրերը
- 2.Ճանապարհային կառույցների միայն այն տարրերը, որոնք վտանգ են ներկայացնում վարորդների համար

Պատ.՝2

Ո՞ր հետագծով երթևեկող վարորդ չի խախտում գծանշման պահանջները



1. Միայն Ա
2. Միայն Բ
3. Երկուսն էլ խախտում են
4. Երկուսն էլ չեն խախտում

Պատ.՝2

Ո՞ր դեպքում է թույլատրվում հասել հոծ գծանշումը



1. Միայն Բ, կանգառ կատարելիս
2. Ոչ մի դեպքում
3. Կանգառ կատարելիս երկու դեպքերում էլ

Պատ.՝1

Ի՞նչ է ցույց տալիս ընդհատվող գծանշումը



1. Կողնակին կանգառ կատարելու իրավունքը
2. Երթևեկելի մասի եզրերը երկգոտի ճանապարհին
3. Կողնակով երթևեկելու իրավունքը

Պատ.՝2

Այս հետագծով երթևեկել նման իրավիճակում



1. Թույլատրվում է միայն վազանցելիս
2. Թույլատրվում է
3. Արգելվում է

Պատ.՝3

Թույլատրվո՞ւմ է կայանել նշված վայրում



1. Թույլատրվում է
2. Թույլատրվում է, առանց մայրին բարձրանալու
3. Արգելվում է

Պատ.՝3

Վազանցն այս գծանշմամբ



1. Թույլատրվում է
2. Թույլատրվում է, եթե առջևից ընթացող դանդաղընթաց է
3. Արգելվում է

Պատ.՝3

Կարող եք շարունակել երթևեկությունը նշանից հետո



- 1. Այո
- 2. Այո միևնույն Կանգ-գիծը
- 3. Ոչ

Պատ.՝2

Երբ նարնջագույն և սպիտակ գծանշումները իրար հակասում են, վարորդները

- 1. Կարող են կատարել իրենց հարմար գծանշման պահանջները
- 2. Պետք է կատարեն սպիտակ գծանշման պահանջները
- 3. Պետք է կատարեն նարնջագույն գծանշման պահանջները:

Պատ.՝3

Ո՞ր վարորդին է կանգառ կատարելու դեպքում թույլատրված հատել հոծ գծանշումը



- 1. Երկու վարորդներին
- 2. Հանդիպակացից երթևեկող վարորդին
- 3. Արգելվում է երկու վարորդներին

Պատ.՝2

Թույլատրվո՞ւմ է կանգառ կատարել նշված վայրում



- 1. Միայն մոտոցիկլներին
- 2. Ոչ
- 3. Այո

Պատ.՝3

Այս գծանշումը



- 1. Բնակելի գոտու սահմաններն է ցույց տալիս
- 2. Արհեստական անհարթությունն է ցույց տալիս
- 3. Արգելվում է հետագա երթևեկությունը

Պատ.՝2

Ի՞նչ է արգելում այս գծանշումը



- 1. Վազանցը
- 2. Շրջանցումը
- 3. Հետադարձը
- 4. Երթևեկությունը դրանից ձախ կամ դրա վրայով

Պատ.՝4

Այս գծանշումը նշանակում է



1. Երթուղու կամ ճանապարհի համարը
2. Առաջարկվող արագությունը
3. Թույլատրելի առավելագույն արագությունը նշված ճանապարհահատվածում

Պատ.՝3

Գրառումը երթևեկելի մասում ցույց է տալիս



1. Հեռավորությունը մոտակա խաչմերուկից
2. Հեռավորությունը մոտակա բնակավայրից
3. Ճանապարհի կամ երթուղու համարը

Պատ.՝3

Ո՞ր կողմից կարելի է շրջանցել արգելքը



1. Միայն Ա
2. Միայն Բ
3. Ցանկացած

Պատ.՝1

Ո՞ր տրանսպորտային միջոցները կարող են երթևեկել այս ճանապարհի աջ եզրային գոտիով



1. Տրոլեյբուսներն ու ընդհանուր օգտագործման ավտոբուսները
2. Տրոլեյբուսներն ու ավտոբուսները
3. Միայն ավտոբուսները

Պատ.՝1

Թո՞ւյլատրվում է կայանել նշված վայրում



1. Արգելվում է
2. Միայն մայթին
3. Միայն մոտոցիկլներիս
4. Թույլատրվում է

Պատ.՝1

Ընդհատվող գծանշման գծիկների մեծացումը հայտնում է



1. Գոտու վերջին մոտենալու մասին
2. Վտանգավոր հատվածին մոտենալու
3. Որ այդ գծանշումը շուտով հոծ է դառնալու

Պատ.՝3

Նշված իրավիճակում ուղիղ երթևեկելն



1. Արգելվում է
2. Թույլատրվում է
3. Թույլատրվում է՝ աջ գոտի վերադասավորվելով

Պատ.՝3

Քանի երթևեկության գոտի ունի այս ճանապարհը



1. Երկու
2. Չորս

Պատ.՝2