

این علامت جاده ای نشانگر چیست؟



- 1. بخشی از جاده که دارای پیاده رو یا گذرگاه عابر پیاده است.
- 2. بخشی از جاده که دارای معبر عابر پیاده است.
- 3. بخشی از جاده که پیاده رو یا گذرگاه عابر پیاده ندارد.

پاسخ : 2


آیا هنگام گردش به راست ورود به خط عبور دارای این علامت مجاز است؟



- 1. مجاز است.
- 2. ممنوع است.
- 3. مجاز است چنانچه خط عبور مزبور با خط ممند خط کشی از باقی بخش تردد جدا نشده باشد.

پاسخ : 3

این علائم در اماکن مسکونی در چه فاصله ای از محدوده نقطه خطرناک جاده قرار داده می شوند؟



- 1. متری 15-25 در فاصله .
- 2. متری 25-50 در فاصله .
- 3. متری 50-100 در فاصله .
- 4. متری 100-150 در فاصله .
- 5. متری 150-300 در فاصله .

پاسخ : 3


کدامیک از علائم تردد را با فاصله بینابینی کوچکتر از آنچه بر روی علامت ترسیم شده، ممنوع می سازد؟



- 11.
- 22.
- 33.
- 44.
- 55.

پاسخ : 3

کدامیک از علائم مجبور می سازد حق تقدم وسایل نقلیه ای که در مسیر لاین مقابل وارد قسمت باریکه جاده می شوند یا به آن نزدیک می شوند، رعایت شود؟



- 11.
- 22.
- 33.
- 44.
- 55.

پاسخ : 3


این علامت جاده ای



- 1. تردد تمامی وسایل نقلیه موتوری به استثنای موتور سیکلت های دارای دو چرخ و بدون پدک .
- 2. تردد تمامی وسایل نقلیه به استثنای تراکتورهای تایر دار ممنوع است .
- 3. تردد تراکتورها و خودروهای شاسی بلند ممنوع است.

پاسخ : 3

کدامیک از علائم در رابطه با نزدیک شدن به تقاطع جاده های هم عرض هشدار می دهد؟



- .11
- .22
- .33
- .44
- .55

پاسخ : 5

کدامیک از علائم بلافاصله قبل از تقاطع معابر قرار می گیرد؟



- .11
- .22
- .33
- .44
- .55

پاسخ : 2

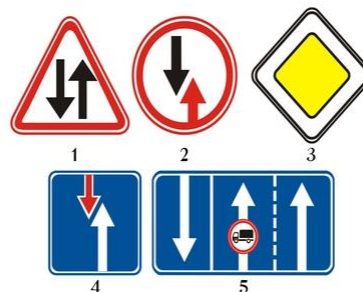
این علائم تردد را برای کدام گزینه مجاز می شمارند؟



- 1 فقط به سمت چپ.
- 2 فقط مستقیم.
- 3 فقط به سمت راست.
- 4 مستقیم، به سمت راست و در مسیر برعکس.

پاسخ : 4

کدامیک از علائم بیانگر حق تقدم راننده است نسبت به وسایل نقلیه لاین مقابل؟



- .11
- .22
- .33
- .44
- .55

پاسخ : 4

تابلو قرار گرفته در زیر علامت به چه معنا است؟



- 1 فاصله بین علامت تا آغاز اولین پیچ.
- 2 فاصله بین اولین پیچ تا آغاز دومین پیچ .
- 3 در امتداد بخشی از جاده که پیچ های خطرناکی دارد.

پاسخ : 3

علائم زیر به چه معنا هستند؟



- 1. تردد موتور سیکلت به سمت راست ممنوع است.
- 2. تردد موتور سیکلت به سمت راست مجاز است.

پاسخ : 1

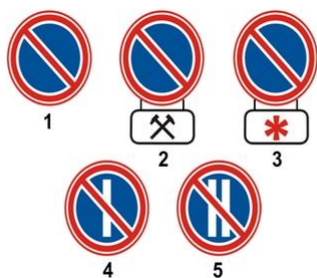
این علامت جاده ای



1. تردد فقط با سرعت قید شده یا بیشتر از آن را مجاز می شمارد.
2. تردد با سرعت قید شده بر روی علامت یا بیشتر از آن را ممنوع می سازد.
3. نشانگر سرعتی است که پیشنهاد می شود با آن در این بخش از جاده تردد شود.

پاسخ : 1

کدامیک از علائم توقف در روزهای زوج هر ماه را ممنوع می سازد؟



- .11
- .22
- .33
- .44
- .55

پاسخ : 5

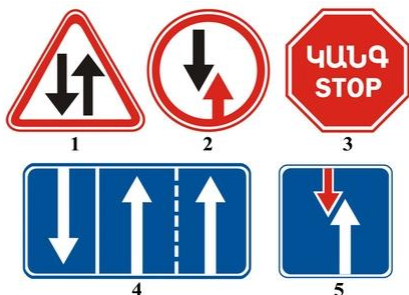
عنوان این علامت عبارت است از



1. نشانگر مقدماتی برای دور زدن مانع.
2. نشانگر مقدماتی برای جایابی به خط عبور دیگر.
3. مقابل (لاین) نشانگر مقدماتی برای خروج به خط عبور.

پاسخ : 2

از میان علائم زیر کدامیک مجبور می سازد حق تقدم برای وسایل نقلیه لاین مقابل منظور شود؟



- .11
- .22
- .33
- .44
- .55

پاسخ : 2


آیا برای راننده اتوبوس سبقت گرفتن در محدوده عملکرد این علامت مجاز است؟



1. در همه حالات مجاز است، با رعایت مقررات سبقت گرفتن.
2. مجاز نیست.
3. مجاز است چنانچه سرعت وسیله نقلیه ای که از آن سبقت می گیرد بیش از 30 ساعت نباشد/کیلومتر

پاسخ : 1

کدامیک از علائم مجبور می سازد حق تقدم برای وسایل نقلیه ای که در مسیر متقاطع با جاده تردد دارند منظور شود؟



- .11
- .22
- .33
- .44
- .55

پاسخ : 3

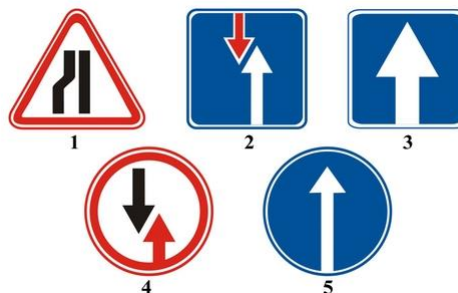
کدامیک از علائم نشانگر بخش یکطرفه جاده است؟



- .11
- .22
- .33
- .44
- .55

پاسخ : 3

کدامیک از علائم نشانگر بخش یکطرفه جاده است؟



- .11
- .22
- .33
- .44
- .55

پاسخ : 3

این علامت جاده ای هشدار می دهد که کمی جلوتر



- 1. بخش از جاده است با مانع آبی بدون پل یا گذرگاه کشتی بیک کش.
- 2. بخشی از جاده است با مانع آبی که بر روی آن پل باز شونده وجود دارد.
- 3. مکانی است که در آن نقطه جاده راه به سوی ساحل یا منطقه ساحلی دارد.

پاسخ : 3

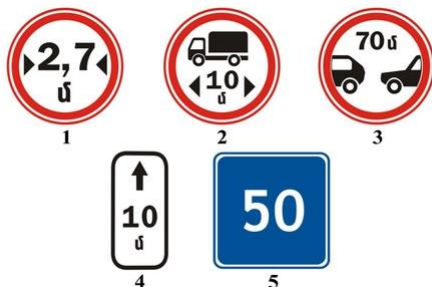
تابلو قرار گرفته زیر علامت به چه معنا است؟



- 1 طول بخش باریکه جاده.
- 2 فاصله مابین علامت تا محل محدودیت.
- 3 فاصله تا محل دور زدن بخش باریکه جاده.

پاسخ : 2


کدامیک از علائم نشانگر حیطة عملکرد علائم جاده ای ممنوعیت ایستادن و توقف وسایل نقلیه است؟



- .11
- .22
- .33
- .44
- .55

پاسخ : 4

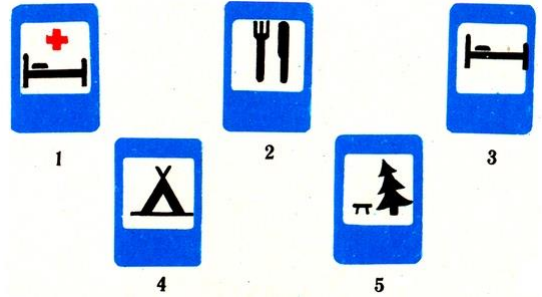
کدامیک از علائم زیر نشانگر طول بخش خطرناک جاده در حیطة عملکرد علائم هشدار دهنده است؟ (اخطاری)



- .11
- .22
- .33
- .44
- .55

پاسخ : 4

است؟ «متل» یا «هتل» کدامیک از علائم تحت عنوان



- .11
- .22
- .33
- .44
- .55

پاسخ : 3


این علامت جاده ای نشانگر چیست



- 1. جاده یکطرفه که تردد صرفاً کامیون ها از آن مجاز است.
- 2. خط عبور پیش بینی شده برای تردد فقط کامیون ها.
- 3. مسیر تردد پیشنهادی برای کامیون ها.

پاسخ : 3

ساعت است؟/کیلومتر 50 کدامیک از علائم نشانگر پایان خط عبور محدودیت حداکثر سرعت



- .11
- .22
- .33
- .44
- .55

پاسخ : 2

مجهز می شوند که (برچسب) خودروهایی به این علامت شناسایی



- 1. بارهای خطرناک حمل می کنند.
- 2. معلولین رانندگی آنها را بعهده دارند.
- 3. افراد ناشنوا یا کر و لال رانندگی آنها را بعهده دارند.
- 4. سال 3 کسان رانندگی آنها را بعهده دارند با تجربه رانندگی تا سقف .

پاسخ : 3

مجهز می شوند که (برچسب) خودروهایی به این علامت شناسایی



- 1. معلولین رانندگی آنها را بعهده دارند.
- 2. بارهای سنگین و به ابعاد جانبی بزرگ حمل می کنند.
- 3. بارهای خطرناک حمل می کنند.
- 4. افراد ناشنوا یا کر و لال رانندگی آنها را بعهده دارند.

پاسخ : 3

این علامت و تابلو درباره چه چیزی هشدار می دهد؟



- 1. بدلیل انجام عملیات بازسازی ایستادن در شانه جاده ممنوع است.
- 2. بدلیل انجام عملیات بازسازی ورود به شانه جاده خطرناک است.
- 3. بدلیل انجام عملیات بازسازی توقف در شانه جاده ممنوع است.

پاسخ : 2

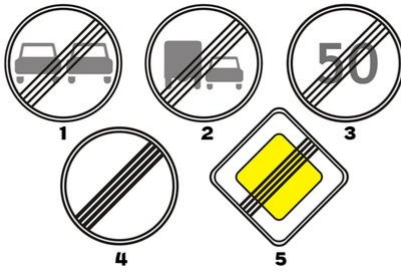
در کدام حالت راننده دستورهای این علامت را درست اجرا کرده است؟



1. حق تقدم وسایل نقلیه موتوری تردد کننده از مسیر متقاطع را رعایت کرده است.
2. حق تقدم وسایل نقلیه تردد کننده از مسیر متقاطع را رعایت کرده است.

پاسخ : 2

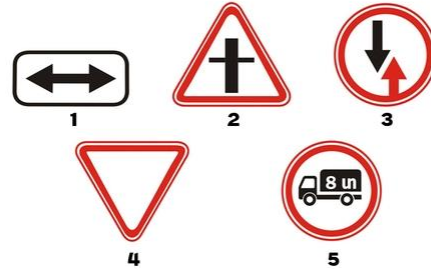
کدامیک از علائم تمامی محدودیت های سابق را لغو می کند؟



- .11
- .22
- .33
- .44
- .55

پاسخ : 4

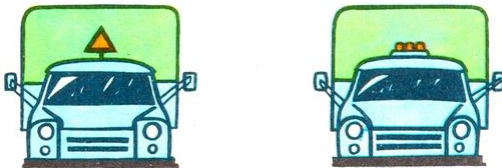
کدامیک از علائم رعایت حق تقدم برای وسایل نقلیه در حال تردد در مسیر متقاطع با جاده را الزامی می شمارد؟



- .11
- .22
- .33
- .44
- .55

پاسخ : 4

خودرو طولیل بکار (برچسب) از گزینه های نمایش داده شده کدامیک بعنوان علامت شناسایی می رود؟



1. علامت سمت چپ.
2. علامت سمت راست.
3. هر دو علامت.

پاسخ : 2

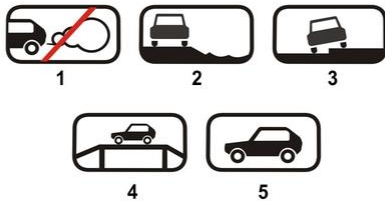
آیا ایستادن بر روی خط عبوری که با این علامت نشانه گذاری شده برای سوار کردن مسافری مجاز است؟



1. مجاز است چنانچه خط عبور مزبور در نزدیکی حاشیه سمت راست بخش عبور و مرور واقع است و به واسطه خط ممتد از بخش دیگر تردد تفکیک نشده باشد.
2. ممنوع است.
3. مجاز است.

پاسخ : 1

زیر نشانگر نحوه توقف وسیله نقلیه در توقفگاه است؟ (نابلوهای) کدامیک از علائم



- .11
- .22
- .33
- .44
- .55

پاسخ : 3

است؟ («عبور دوچرخه سوار») «تقاطع با مسیر دوچرخه سواری» کدامیک از علائم نشانگر



- .11
- .22
- .33
- .44
- .55

پاسخ : 2 :

در صورت وجود این علامت جاده ای



سبقت گرفتن با همه رقم وسیله نقلیه ممنوع است، به استثنای وسایل نقلیه ای که با سرعت پایین حرکت می کنند، گاری ها، موتور سیکلت های دو چرخ بدون پدال جانبی، موتورهای 1.گازی و دوچرخه ها  
 2. تن مجاز است 3.5 سبقت گرفتن با کامیون های دارای حداکثر وزن مجاز تا سقف .  
 30 سبقت گرفتن مجاز است چنانچه سرعت وسیله نقلیه ای که سبقت می گیرد بیش از .  
 3 ساعت نباشد/کیلومتر

پاسخ : 1 :


این علامت جاده ای نشانگر چیست؟



1(مسیر بن بست)مسیر بدون راه میانی .  
 2مسیر تردد به سمت موردی واقع در منطقه مسکونی.  
 3یا خط عبور مکمل بر روی مسیر بالارو (خط تغییر سرعت)پایان خط ازدیاد سرعت .

پاسخ : 1 :

شکل است؟ کدامیک از علائم نشانگر مسیر تردد در تقاطع



- .11
- .22
- .33
- .44
- .55

پاسخ : 2 :

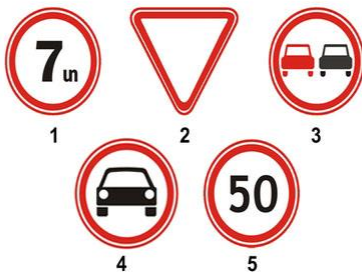
تردد کدام وسایل نقلیه در جاده های مشمول این علامت مجاز است؟



1وسایل نقلیه موتوری.  
 2تمامی وسایل نقلیه.  
 3خودروها و موتور سیکلت ها.  
 4ساعت است/کیلومتر 40وسایل نقلیه ای که حداکثر سرعت آنها بیش از .

پاسخ : 3 :

تأثیر کدام علامت شامل حال وسایل نقلیه عمومی نمی شود؟



- .11
- .22
- .33
- .44
- .55

پاسخ : 4 :

به چه معنا است؟ (برچسب) این علامت شناسایی



- 1. جلوتر بخشی از جاده ناهمواری هایی در بخش تردد دارد.
- 2. جلوتر بمنظور تردد در این مسیر بخشی از جاده است با سه خط عبور.
- 3. بر روی وسیله نقلیه موتوری تایرهای میخ دار نصب شده اند.

پاسخ : 3


کدامیک از این علائم جاده ای در شمار علائم بازدارنده نیست؟



- .11
- .22
- .33
- .44
- .55

پاسخ : 2

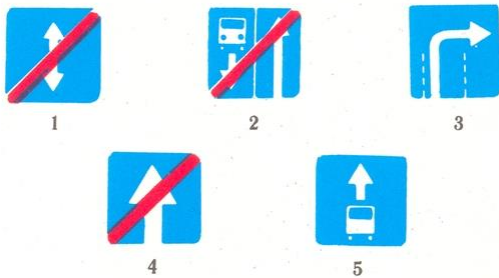
کدامیک از علائم رعایت حق تقدم برای وسایل نقلیه در حال تردد در مسیر مقاطع با جاده را الزامی می شمارد؟



- .11
- .22
- .33
- .44
- .55

پاسخ : 2

است؟ «پایان جاده یکطرفه» کدامیک از علائم نشانگر



- .11
- .22
- .33
- .44
- .55

پاسخ : 4

برای وسیله نقلیه محسوب می شود؟ (برچسب) کدامیک از علائم شناسایی



- .11
- .22
- .33

پاسخ : 3

علائم زیر نشانگر چه هستند؟



- «معلولین» (برچسب) متری برای خودروهای مجهز به علامت شناسایی 30 توقفگاه در فاصله .
- 1) راننده معلول
- متر برای وسایل نقلیه به استثنای 30 توقفگاه در خطی به طول .
- 2) موتوری (ویلچر) کالسکه
- متر برای 30 توقفگاه در خطی به طول .
- «معلولین» (برچسب) موتوری و برای خودروهای مجهز به علامت شناسایی (ویلچر) کالسکه
- 3) راننده معلول

پاسخ : 3



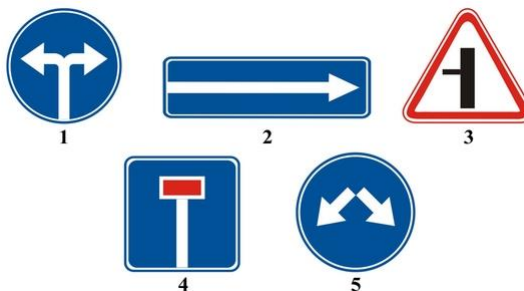
تردد کدام وسیله نقلیه را این علامت جاده ای ممنوع می سازد؟



- 1 وسایل نقلیه موتوری.
- 2 فقط خودروها.
- 3 فقط خودروهای سواری سبک.

پاسخ : 1

است؟ (عبور از هر دو سمت مجاز) کدامیک از علائم نشانگر دور زدن مانع از چپ یا راست



- .11
- .22
- .33
- .44
- .55

پاسخ : 5

کدامیک از علائم هنگام حمل گروه های سازمان یافته کودکان، در قسمت های جلو و عقب وسایل نقلیه نصب می شود؟



- .11
- .22
- .33
- .44

پاسخ : 1

علائم جاده ای قید شده نشانگر چه هستند؟



1. جاده اصلی از تقاطع به سمت چپ ادامه می یابد.
2. جاده اصلی از تقاطع در مسیر مستقیم و به سمت چپ ادامه می یابد.

پاسخ : 1


علائم جاده ای قید شده نشانگر چه هستند؟



1. در حیطه تأثیرگذاری تابلو، رانندگان باید با سرعتی بالاتر از آنچه بر روی علامت نشان داده شده تردد نمایند.
2. در حیطه تأثیرگذاری تابلو، به رانندگان پیشنهاد می شود با سرعت نشان داده شده بر روی علامت تردد نمایند.

پاسخ : 2

تأثیر کدام علائم تنها شامل آن مقطع زمانی می شود که طی آن پوشش بخش تردد مرطوب است؟



1. A و C فقط .
2. فقط B .
3. فقط C .
4. همه گزینه ها .

پاسخ : 3


علامت جاده ای قید شده نشانگر چه هستند؟



متری بعد از علامت، از سمت راست جاده باریک می شود که طول آن 150-300 در فاصله 100 متر است.  
1 متر پس از علامت، از سمت 100 در فاصله .  
2. راست جاده باریک می شود

پاسخ : 1

راننده در این وضعیت چطور باید عمل کند؟



1. به مسیر مستقیم ادامه دهد.  
2. به خط عبور لاین مقابل تغییر مسیر دهد.

پاسخ : 2

علامت جاده ای قید شده نشانگر چه هستند؟



1. ایستادن در روزهای شنبه ممنوع است.  
2. ایستادن در روزهای یکشنبه ممنوع است.  
3. یکشنبه و اعیاد ممنوع است-ایستادن در روزهای شنبه.  
4. ایستادن هنگام بارش برف ممنوع است.

پاسخ : 3

تردد راننده به کدام سو مجاز است؟



1 فقط راست و چپ.  
2 فقط مستقیم.  
3 مستقیم و در مسیر برعکس.

پاسخ : 3

علامت جاده ای قید شده نشانگر چه هستند؟



1. بدلیل انجام عملیات بازسازی ورود به شانه جاده خطرناک است.  
2. جاده در دست تعمیر است.

پاسخ : 1

کدام علامت جاده ای دور برگردان را ممنوع می سازد؟



1

2

3

11

22

33

پاسخ : 3

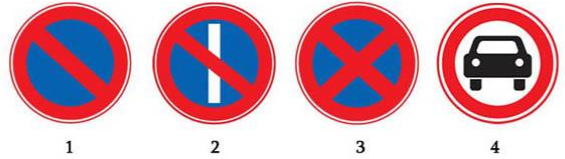
راننده چطور باید عمل کند زمانی که قبل از تقاطع این علامت جاده ای نصب شده باشد؟



1. از تقاطع عبور کند با رعایت مقررات امنیتی.
2. حق تقدم وسایل نقلیه تردد کننده از مسیر متقاطع را رعایت کند.
3. مقابل علامت بایستد و حق تقدم وسایل نقلیه تردد کننده از مسیر متقاطع را رعایت کند.

پاسخ : 3

تأثیر کدام علائم جاده ای شامل حال وسایل نقلیه عمومی نمی شود؟



- 1 هیچکدام.
- 2 فقط گزینه اول.
- 3 فقط گزینه چهارم.

پاسخ : 3

علامت جاده ای زیر نشانگر چیست؟



1. در تقاطع باید به سمت چپ یا راست تردد نمود.
2. سازماندهی شده است /reverse traffic/ در جاده متقاطع ترافیک برگشت پذیر .
3. در جاده متقاطع تردد یکطرفه سازماندهی شده است.

پاسخ : 2

آیا در وضعیت مزبور راننده مجبور است حق تقدم کامیون را رعایت کند؟



1. مجبور است.
2. مجبور نیست.

پاسخ : 1

علائم جاده ای قید شده نشانگر چه هستند؟



1. ساعت تردد نمود/کیلومتر 40 هنگام یخبندان جاده باید با سرعت .
2. ساعت تردد نمود/کیلومتر 40 در صورتی که سطح جاده خیس باشد با سرعت حداکثر .

پاسخ : 2

علائم جاده ای قید شده نشانگر چه هستند؟



1. ایستادن در روزهای شنبه ممنوع است.
2. ایستادن در روزهای یکشنبه ممنوع است.
3. ایستادن در روزهای کاری ممنوع است.

پاسخ : 3

علامت جاده ای زیر نشانگر چیست؟



1. ساعت است/کیلومتر 50 در این بخش از جاده حداکثر سرعت مجاز برای تردد .
2. ساعت تردد شود/کیلومتر 50 پیشنهاد می شود در این بخش از جاده با سرعت .
3. تردد فقط با سرعت قید شده در علامت یا بیش از آن مجاز است.

پاسخ : 2

کدام علامت جاده ای راننده را مجبور به تردد به سمت چپ یا به سمت راست می نماید؟



1



2



3

- .11
- .22
- .33

پاسخ : 3

علامت جاده ای زیر نشانگر چه هستند؟



- 1 ساعت /کیلومتر 40 در صورتی که سطح جاده خیس باشد پیشنهاد می شود تردد با سرعت . انجام گیرد
- 2 در صورتی که سطح جاده خیس باشد تردد با . ساعت مجاز است/کیلومتر 40 سرعت حداکثر

پاسخ : 1

تأثیر علامت جاده ای مزبور شامل کدام سمت جاده است؟



- 1 سمت چپ جاده.
- 2 سمت راست جاده.
- 3 سمتی از جاده که آنها نصب شده اند.

پاسخ : 3

در این حالت دور زدن مانع در کدام مسیر مجاز است؟



- 1 «a» فقط .
- 2 «b» فقط .
- 3 «a» و «b» .

پاسخ : 3

راننده در این وضعیت چطور باید عمل کند؟



- 1 باید مقابل اولین علامت ایستاد.
- 2 باید قبل از علامت دوم ایستاد.
- 3 متری اولین خط آهن ایستاد 5 باید در فاصله حداقل .

پاسخ : 2

متری را دارد؟ 200 در این وضعیت آیا راننده اجازه دور برگردان از فاصله



1. اجازه دارد.
2. اجازه ندارد.

پاسخ : 1

راننده چطور باید عمل کند اگر در تقاطع قصد گردش به راست داشته باشد؟



1. می تواند به خط عبور راست تغییر مسیر داده و پس از آن اقدام به گردش به راست نماید.
2. می تواند به تقاطع نزدیک شده و سپس اقدام به گردش به راست نماید.
3. هر دو پاسخ درست است.

پاسخ : 3

راننده در این وضعیت چطور باید عمل کند؟



1. با تأمین اصول ایمنی از تقاطع هم سطح با راه آهن عبور کند.
2. بدون ایستادن از تقاطع هم سطح با راه آهن عبور کند.
3. قبل از علامت بایستد و با رعایت اصول ایمنی از تقاطع هم سطح با راه آهن چند خطه عبور کند.

پاسخ : 3

در این وضعیت آیا راننده مجبور است در محلی که مأمور کنترل نشان می دهد بایستد؟



1. مجبور نیست زیرا علامت ایستادن را ممنوع می سازد.
2. مجبور است.

پاسخ : 2

تردد خودرو سواری سبک در کدام مسیر مجاز است؟



1. به سمت چپ و در مسیر برعکس.
2. به هر سمتی.
3. مستقیم، به سمت چپ و در مسیر برعکس.

پاسخ : 3

خط کشی صورت گرفته در بخش تردد نشانگر چیست؟



1. حدود خطوط عبور تفکیک شده برای وسایل نقلیه ای که در مسیر همسو تردد می کنند.
2. reverse traffic/حدود خط عبور ترافیک برگشت پذیر .

پاسخ : 2

راننده در این وضعیت چطور باید عمل کند؟



- در صورت لزوم باید حق تقدم وسیله نقلیه ای را که در مسیر متقاطع تردد می کند رعایت نماید .  
 1 .  
 باید بایستد و حق تقدم وسیله نقلیه ای را که در مسیر .  
 2 . متقاطع تردد می کند رعایت نماید

پاسخ : 2

از میان علائم رانندگی ذیل ارائه شده کدامیک ورود به محدوده تقاطع را ممنوع می سازد اگر جلوتر در مسیر تردد ترافیک ایجاد شده، به استثنای موارد گردش به راست یا چپ؟



- .11  
 .22  
 .33  
 .44

پاسخ : 3

در حداکثر چه فاصله ای در تقاطع های مرکب نصب می «محدوده تقاطع» علامت رانندگی شود اگر نصب آن در مرز تقاطع مقدر نیست؟



- 1متری 10فاصله .  
 2متری 20فاصله .  
 3متری 30فاصله .

پاسخ : 3


علامت رانندگی زیر درباره چه چیزی هشدار می دهد؟



- 1(توقف مطلقاً ممنوع)ایستادن ممنوع .  
 ورود به محوطه تقاطع ممنوع است اگر جلوتر در مسیر تردد ترافیک ایجاد شده که راننده را .  
 2.مجبور به ایستادن خواهد کرد  
 3 . ورود به محوطه تقاطع ممنوع است اگر جلوتر در مسیر تردد ترافیک ایجاد شده است.

پاسخ : 2


خط کشی رانندگی زیر بیانگر چیست؟



- 1محل توقف وسایل نقلیه.  
 2محل عبور عابر پیاده.  
 3دماغه امنیتی.  
 بخشی از تقاطع که ورود به آنجا ممنوع است اگر جلوتر در مسیر تردد ترافیک ایجاد شده که .  
 4راننده را مجبور به ایستادن خواهد کرد

پاسخ : 4

از میان علائم رانندگی زیر کدامیک نشان دهنده بخشی از تقاطع است که ورود به آنجا ممنوع است اگر جلوتر در مسیر تردد ترافیک ایجاد شده که راننده را مجبور به ایستادن خواهد کرد؟



- .11  
 .22  
 .33

پاسخ : 3

دور برگردان از خط عبور قید شده



1. مجاز است.
2. ممنوع است.

پاسخ : 2

مجبور به ایستادن هستید؟ «خط ایست» آیا در مقابل



1. بلی.
2. خیر.

پاسخ : 2

در این حالت:



1. مجبور هستیم به رعایت حق تقدم راننده کامیون.
2. می توانیم از قسمتی که تنگ است اول از همه عبور کنیم.

پاسخ : 2

تن حداکثر سرعت 3.5 پس از این علائم برای راننده کامیون با وزن حداکثر مجاز تا سقف تردد چقدر تعیین شده است؟



1. ساعت/کیلومتر 60 حداکثر.
2. ساعت/کیلومتر 70 حداکثر.
3. ساعت/کیلومتر 80 حداکثر.

پاسخ : 3

توقف در این محل:



1. مجاز است.
2. مجاز است فقط برای ساعات روشن روز.
3. ممنوع است.

پاسخ : 1

آیا راننده کامیون مقررات توقف را نقض کرده است؟



1. بلی.
2. تن است 3.5 بلی اگر حداکثر وزن مجاز بیش از .
3. خیر.

پاسخ : 1

تابلوی اطلاعات مکمل بیاتگر چیست؟



1. «حق تقدم را رعایت کنید» فاصله بین تابلو تا تقاطع زمانی که بلافاصله قبل از تقاطع تابلوی .  
نصب شده است («رعایت حق تقدم»)
2. نصب شده است («ایست») است
3. محل استقرار گذرگاه مرزی.

پاسخ : 2

تردد در کدام مسیر مجاز است؟



- 1 فقط مستقیم.
- 2 مستقیم و برعکس.
- 3 در تمامی جهات.

پاسخ : 2

به موجب این علائم کدام گزینه سرعت برای جاده تعریف شده است؟



- 1 ساعت/کیلومتر 50 - حداقل سرعت .
- 2 ساعت/کیلومتر 50 - سرعت پیشنهادی .
- 3 ساعت/کیلومتر 50 - حداقل سرعت در خط عبور همسوی سمت چپ .

پاسخ : 3

ایستادن در نقطه قید شده



1. مجاز است.
2. ممنوع است.

پاسخ : 1

علائم در این خصوص اطلاع رسانی می کنند که



- 1 . متری جاده خطر ظهور عابرین پیاده در بخش تردد وجود دارد 150 در .
2. متری با گذرگاه کنترل نشونده عابر پیاده مواجه خواهید شد 150 از فاصله .

پاسخ : 2

آیا راننده برای گردش به چپ مجاز است؟



1. بله.
2. خیر.

پاسخ : 1



در کدام مسیر می توانید به تردد در این تقاطع ادامه دهید اگر رانندگی کامیونی را بعهده دارید با تن؟ 3.5 حداکثر وزن مجاز



- 1 فقط مسیر چپ.
- 2 راست، چپ یا برعکس.
- 3 در تمام جهات.

پاسخ : 3

آیا گردش به راست به سمت جاده خاکی مجاز است؟



- 1 بلی.
- 2 خیر.

پاسخ : 1

آیا ایستادن در محل قید شده بمنظور سوار کردن مسافر مجاز است؟



- 1 بلی.
- 2 خیر.

پاسخ : 1

این علامت جاده ای



- 1 در رابطه با نزدیک شدن به باریکه جاده هشدار می دهد.
- 2 عبور از روی پل را ممنوع می سازد.
- 3 رعایت حق تقدم راننده در حال تردد در لاین مقابل را در بخش های باریکه الزامی می سازد.

پاسخ : 3

اگر تغییر مسیر حرکت الزامی است چگونه عمل خواهید کرد؟



- 1 در این تقاطع اقدام به دور برگردان خواهید کرد.
- 2 پس از عبور از تقاطع در مسیر مستقیم، اقدام به دور برگردان خواهید کرد.
- 3 هر دو گزینه مجاز است.

پاسخ : 2

توقف کردن در این محل



- 1 مجاز است.
- 2 ممنوع است.

پاسخ : 2


این علامت جاده ای



1. ایستادن بر روی شانه راه را ممنوع می سازد.
2. خروج به شانه راه بدلیل عملیات بازسازی خطرناک است.
3. ایستادن فقط در بخش تردد مجاز است.

پاسخ : 2

در صورت مواجه شدن با این تابلو تأثیر علامتی که به همراه آن بکار رفته شامل حال کدام موارد می شود؟



- 1 فقط خودروهای سواری سبک.
- 2 تن 3.5 خودرو سواری سبک، همچنین کامیون های دارای حداکثر وزن مجاز تا سقف .
- 3 خودروهای سواری سبک و موتور سیکلت ها.

پاسخ : 2

این علامت جاده ای



1. ساعت تردد شود/کیلومتر 40 پیشنهاد می کند با سرعت .
2. ساعت یا بیشتر را مجاز می شمارد/کیلومتر 40 تردد با سرعت فقط .
3. ساعت را ممنوع می سازد/کیلومتر 40 تردد با سرعت بیش از .

پاسخ : 3

تردد در کدام مسیرهای خط عبور قید شده مجاز است؟



- 1 فقط چپ.
- 2 مستقیم و چپ.
- 3 مستقیم، چپ و مسیر برعکس.

پاسخ : 3

این علامت جاده ای درباره چه چیزی هشدار می دهد؟



- 1 نزدیک شدن به بخش لغزنده جاده.
- 2 نزدیک شدن به بخش خیس و کثیف جاده.
- 3 به بخشی از جاده که احتمال پرتاب سنگریزه وجود دارد.

پاسخ : 3

ورود به کدامیک از محوطه های حیاط های ساختمان ها برای راننده مجاز است؟



- 1 چپ.
- 2 راست.
- 3 به هیچ یک از محوطه های حیاط ها نمی توان وارد شد.
- 4 هر دو محوطه حیاط ها مجازند.

پاسخ : 2

تخلیه بار خودرو در حیطة تأثیر این علامت جاده ای



1. دقیقه بطول انجامد 5 مجاز است اگر تا سقف .
2. مجاز است فارغ از طول مدت آن.
3. ممنوع است.

پاسخ : 2

در این حالت برای راننده خودرو سواری سبک تردد در کدام مسیر مجاز است؟



- 1 فقط مستقیم.
- 2 مستقیم و راست.
- 3 در تمام جهات.

پاسخ : 3

در این حالت ایستادن بمنظور سوار کردن مسافر



- 1 پس از علامت مجاز است.
- 2 قبل از علامت مجاز است.
- 3 در هر دو حالت ممنوع است.

پاسخ : 3

آیا ورود به محوطه حیاط ساختمان مزبور مجاز است؟



- 1 بلی .
- 2 خیر.

پاسخ : 1

در این حالت حداقل از چه فاصله ای به بعد امکان مواجه شدن با تقاطع هم عرض وجود دارد؟



- 1 متری 100 فاصله .
- 2 متری 150 فاصله .
- 3 متری 50 فاصله .

پاسخ : 3

عملکرد مقررات تردد در امکان مسکونی از کدام نقطه شروع می شود؟

- 1 فقط پس از علایم آغاز منطقه مسکونی با رنگ زمینه اصلی سفید.
- 2 فقط پس از علایم حاوی نام منطقه مسکونی با رنگ زمینه اصلی سفید یا آبی.
- 3 فقط پس از شروع منطقه ای که ساختمانسازی صورت گرفته است.

پاسخ : 1

این علامت جاده ای



1. درباره تقاطع با خطوط تراموا اخطار می دهد.
2. درباره نزدیک شدن به ایستگاه های تراموا است.
3. رعایت حق تقدم راننده تراموا را الزامی می سازد.

پاسخ : 1

این علائم رعایت چه فاصله ای را از وسیله ای که جلوتر در حرکت است الزامی می دانند؟



1. متری 900متر در مقطع 70کمتر از .
2. متری 900متر در مقطع 70بیش از .
3. متر 900متر پس از 70در فاصله .

پاسخ : 2

تردد در کدام مسیر از خط عبور قید شده را می توانید ادامه دهید؟



- 1 فقط مستقیم.
- 2 در مسیر چپ و مستقیم.
- 3 در مسیر چپ، مستقیم و برعکس.

پاسخ : 2

این علائم درباره چه چیزی هشدار می دهند؟



- 1 درباره نزدیک شدن به تقاطع هم سطح راه آهن سه خطه.
2. متری تقاطع هم سطح با راه آهن بدون راهنما پیش رو است 150-300در فاصله .
3. متری تقاطع هم سطح با راه آهن وجود دارد 50-100پس از فاصله .

پاسخ : 2

آیا توقف در محل یاد شده مجاز است؟



1. بلی.
- 2 مجاز است فقط برای ساکنین مکان مزبور.
3. خیر.

پاسخ : 1

در تقاطع قید شده در کدام مسیر می توانید به تردد ادامه دهید اگر رانندگی کامیونی را بعهده تن؟ 3. دارید یا حداکثر وزن مجاز



- 1 فقط در مسیر مستقیم.
- 2 فقط در مسیر مستقیم و راست.
- 3 در هر مسیری.

پاسخ : 3

آیا راننده کامیون مقررات توقف را نقض کرده است؟



1. خیر.

2. تن باشد 3.5 بلی، چنانچه حداکثر وزن مجاز بیش از .  
3. بلی، به استثنای موقع انجام دور برگردان.

پاسخ : 3

آیا سبقت گرفتن در این حالت مجاز است؟



1. بلی .

2. ساعت باشد/کیلومتر 30 بلی اگر سرعت موتور سیکلت کمتر از .  
3. خیر.

پاسخ : 1

آیا در حیطة تأثیر این علائم نزدیک شدن به محل کار مجاز است؟



1. فقط در روزهای کاری مجاز است.

2. فقط در روزهای تعطیل مجاز است.

3. در همه روزها مجاز است.

4. ممنوع است.

پاسخ : 3

آیا در روزهای فرد هر ماه می توان در نقطه یاد شده توقف کرد؟



1. بلی .

2. 19:00 بلی پس از ساعت .

3. خیر.

پاسخ : 2

آیا تردد خودرو سواری سبک با پدک در مسیر مستقیم این تقاطع مجاز است؟



1. بلی .

2. فقط برای ساکنین این قسمت مجاز است.

3. خیر.

پاسخ : 1

این علامت:



1. نشان دهنده مسیرهای حرکت در تقاطع است.

2. تردد در تقاطع را ممنوع می سازد.

پاسخ : 1

بخش لغزنده جاده در چه فاصله ای در منطقه مسکونی آغاز خواهد شد؟



- 1متری 100حداقل از فاصله .
- 2متری 50حداقل از فاصله .
- 3بلافاصله پس از علامت.

پاسخ : 2

در این حالت علامت ممنوعیت توقف شامل حال کدام وسایل نقلیه نمی شود؟



- 1تاکسی های سواری سبک.
- 2«مغولین» (برجسب)موتوری و خودروهای مجهز به علامت شناسایی (ویلچر)فقط کالسکه .
- 3همه موارد قید شده.

پاسخ : 2

کدام راننده مقررات توقف کردن را نقض کرده است؟



- 1هیچ یک.
- 2راننده کامیون.
- 3رانندگان موتور سیکلت و خودرو سواری سبک.

پاسخ : 1

دور برگردان با مسیر قید شده



- 1مجاز است.
- 2ممنوع است.

پاسخ : 2

توقف کردن پس از پل جاده ای



- 1مجاز است.
- 2ممنوع است.

پاسخ : 2

این علائم جاده ای درباره چه چیزی اطلاع رسانی می کنند؟



- 1درباره عملیات ساختمانی تقاطع هم سطح با راه آهن.
- 2درباره نزدیک شدن به تقاطع هم سطح با راه آهن با راهنم.
- 3درباره نزدیک شدن به تقاطع هم سطح با راه بدون راهنم.

پاسخ : 2

هنگام تردد در خط عبور یاد شده تردد به کدام سمت مجاز است؟



- 1 فقط به سمت چپ.
- 2 فقط در مسیر مستقیم.
- 3 در مسیر چپ و برگشتی.

پاسخ : 3

این علامت درباره نزدیک شدن به تونلی اطلاع می دهد که



- 1 در آنجا خط کشی وجود ندارد.
- 2 که در آنجا روشنایی مصنوعی وجود ندارد.

پاسخ : 2

این علامت پیشاپیش درباره چه چیزی اطلاع رسانی می کند؟



- 1 رعایت حق تقدم دوچرخه سوار الزامی است.
- 2 درباره تقاطع با گذرگاه دوچرخه سواری.
- 3 درباره نزدیک شدن به میدان دوچرخه سواری.

پاسخ : 2

علامت مزبور شامل حال رانندگان کدام وسایل نقلیه می شوند؟



- 1 خودروهای سواری سبک و موتورسیکلت ها.
- 2 همه.
- 3 فقط خودروهای سواری سبک.

پاسخ : 1

در صورت وجود کدام علامت از سر گرفتن حرکت بدون کسب اجازه پس از توقف مجاز نیست؟



- 2 فقط گزینه .
- 5 و 1 گزینه های .
- 5 فقط گزینه .
- 4 همه.

پاسخ : 3