

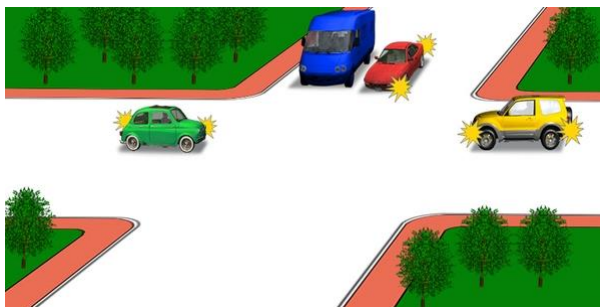
Транспортные средства проедут перекресток в следующей последовательности:



1. Легковому автомобилю, автобусу, троллейбусу.
2. Троллейбусу и автобусу, легковому автомобилю.
3. Троллейбусу, легковому автомобилю, автобусу.

отв. 3

Перекресток первым проедет:



1. Красный автомобиль.
2. Синий автомобиль.
3. Желтый автомобиль.
4. Зеленый автомобиль.

отв. 4


Перекресток последним проедет:



1. Синий автомобиль.
2. Зеленый автомобиль.
3. Красный автомобиль.

отв. 1


Синий автомобиль проедет перекресток:



1. Первым.
2. Вторым.

отв. 1

В каком ответе правильно указана очередность проезда перекрестка?



1. Автобус, легковой автомобиль, велосипед.
2. Легковой автомобиль, автобус, велосипед.
3. Велосипед, автобус, легковой автомобиль.

отв. 3

Перекресток вторым проедет:



1. Трамвай.
2. Красный автомобиль.
3. Синий автомобиль.

отв. 1


В каком направлении движение запрещено?



1. Направо, в первый проезд.
2. Направо, во второй проезд.
3. Направо, в первый и второй проезды.

отв. 2


Перекресток вторым проедет:



1. Зеленый автомобиль.
2. Красный автомобиль.
3. Синий автомобиль.

отв. 2

Перекресток вторым проедет:



1. Синий автомобиль.
2. Зеленый автомобиль.
3. Красный автомобиль.

отв. 1

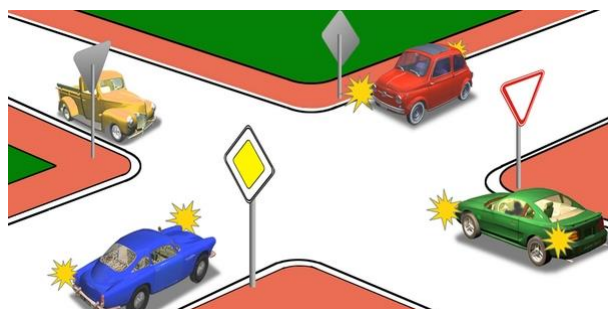
Перекресток вторым проедет:



1. Белый автомобиль одновременно с желтым.
2. Красный автомобиль.
3. Зеленый автомобиль.

отв. 2

Перекресток последним проедет:



1. Синий автомобиль.
2. Желтый автомобиль.
3. Зеленый автомобиль.
4. Красный автомобиль.

отв. 3

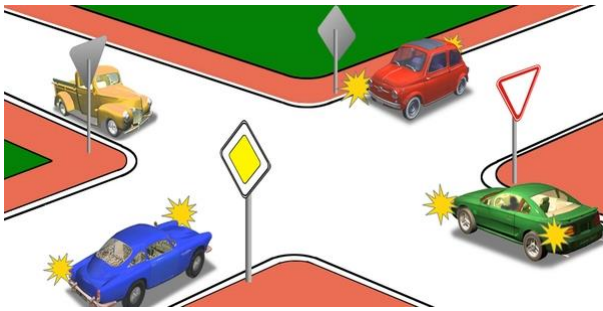
Водитель какого транспортного средства должен уступить дорогу?



1. Велосипедист.
2. Водитель автомобиля.

отв. 2


Перекресток первым проедет:



1. Зеленый автомобиль.
2. Синий автомобиль.
3. Красный автомобиль.
4. Желтый автомобиль.

отв. '3


В каком порядке транспортные средства проедут перекресток?



1. Мотоцикл, автомобиль, трамвай.
2. Трамвай, автомобиль, мотоцикл.
3. Трамвай, мотоцикл, автомобиль.

отв. '1

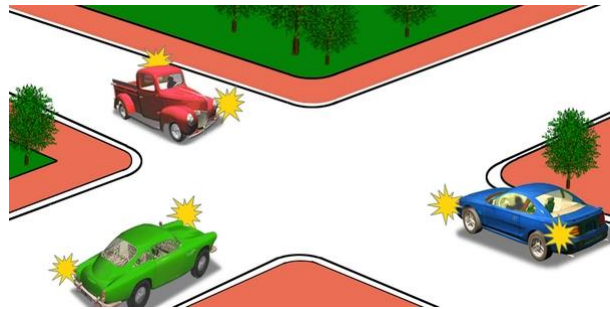
Перекресток вторым проедет:



1. Красный автомобиль.
2. Синий автомобиль.
3. Зеленый автомобиль.

отв. '2

Перекресток последним проедет:



1. Зеленый автомобиль.
2. Синий автомобиль.
3. Красный автомобиль.

отв. '3

Какой автомобиль последним проедет перекресток?



1. Синий.
2. Красный.
3. Зеленый.

отв. '2

Перекресток первым проедет:




1. Зеленый автомобиль.
2. Красный автомобиль.
3. Синий автомобиль.

отв. '1



Водитель какого транспортного средства должен уступить дорогу?



1. Водитель автобуса.
2. Водитель мотоцикла.

отв. 1

Перекресток первым проедет:



1. Красный автомобиль.
2. Зеленый автомобиль.
3. Синий автомобиль.

отв. 3


Перекресток вторым проедет:



1. Синий автомобиль.
2. Зеленый автомобиль.
3. Красный автомобиль.

отв. 1


Перекресток третьим проедет:



1. Синий автомобиль.
2. Желтый автомобиль.
3. Зеленый автомобиль.
4. Красный автомобиль.

отв. 2

Красный автомобиль:



1. Имеет преимущество в движении, так как приблизился к перекрестку с круговым движением с правой стороны синего автомобиля.
2. Должен уступить дорогу синему автомобилю, движущемуся по дороге с круговым движением.

отв. 2


Автомобили проедут перекресток в следующем порядке:



1. Желтый, зеленый, синий.
2. Синий одновременно с зеленым, желтый.

отв. 2


Перекресток третьим проедет:



1. Желтый автомобиль.
2. Красный автомобиль.
3. Синий автомобиль.
4. Зеленый автомобиль.

отв. '3

Перекресток первым проедет:



1. Зеленый автомобиль.
2. Синий автомобиль.
3. Красный автомобиль.

отв. '3

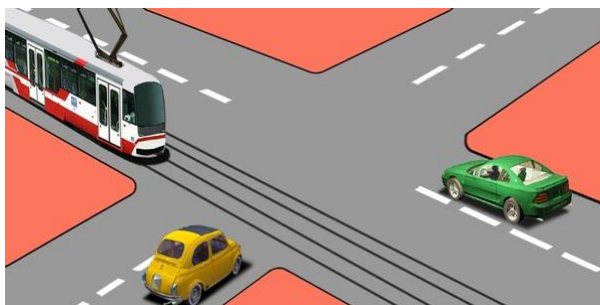
Транспортные средства проедут перекресток в следующей последовательности:



1. Красный, зеленый, синий, черный.
2. Зеленый, красный, черный, синий.
3. Зеленый, красный, синий, черный.

отв. '1


Транспортные средства проедут перекресток в следующей последовательности:



1. Трамвай, желтый автомобиль, зеленый автомобиль.
2. Трамвай и зеленый автомобиль, желтый автомобиль.
3. Зеленый автомобиль, желтый автомобиль, трамвай.

отв. '2

Кто из водителей имеет преимущество на первоочередное движение?



1. Водитель мотоцикла.
2. Водитель автомобиля.

отв. '2

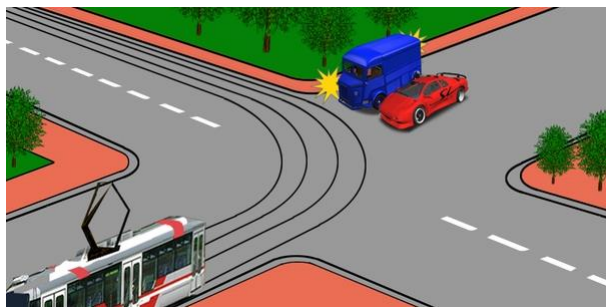
Перекресток вторым проедет:



1. Красный автомобиль.
2. Синий автомобиль.
3. Зеленый автомобиль.

отв. '3


Водитель какого транспортного средства должен уступить дорогу?



1. Водитель трамвая.
2. Водитель грузового автомобиля.
3. Водители автомобилей.

отв. 3

Красный автомобиль проедет перекресток:



1. Первым.
2. Вторым.

отв. 1

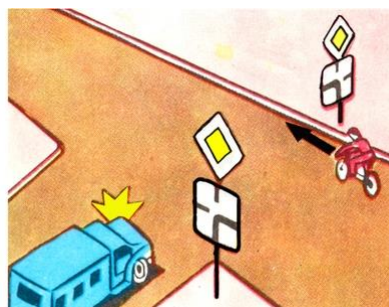
Транспортные средства проедут перекресток в следующей последовательности:



1. Легковой автомобиль, автобус, велосипед.
2. Автобус, велосипед, легковой автомобиль.
3. Автобус, легковой автомобиль, велосипед.
4. Велосипед, автобус, легковой автомобиль.

отв. 4

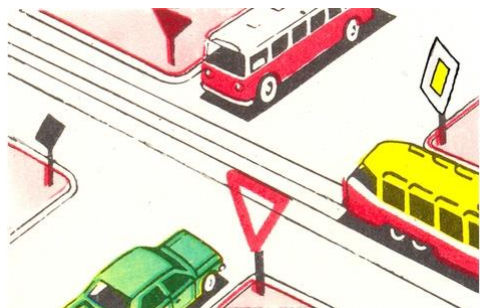
Водитель какого транспортного средства имеет право на первоочередное движение?



1. Водитель автомобиля.
2. Велосипедист.

отв. 2


Транспортные средства проедут перекресток в следующей последовательности:



1. Трамвай, автомобиль и автобус одновременно.
2. Трамвай, автобус, автомобиль.
3. Автобус, трамвай, автомобиль.

отв. 1

Водитель какого транспортного средства должен уступить дорогу?




1. Водитель синего автомобиля.
2. Водитель красного автомобиля.

отв. 1



Водитель какого транспортного средства должен уступить дорогу?



1. Водитель автомобиля.
2. Водитель мотоцикла.

отв. 2

Водитель какого транспортного средства правильно въезжает на перекресток с круговым движением?



1. Оба водителя.
2. Только водитель автобуса.
3. Только водитель легкового автомобиля.

отв. 1


Какое транспортное средство имеет право на первоочередное движение?



1. Красный автомобиль, так как он въезжает на перекресток с круговым движением справа от синего автомобиля.
2. Синий автомобиль, так как он едет по дороге с круговым движением.

отв. 2

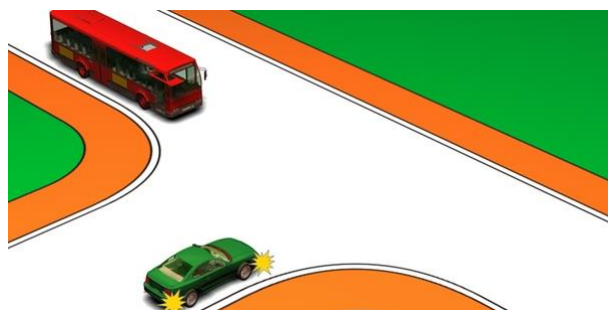
Укажите очередность проезда перекрестка:



1. Синий, красный одновременно с зеленым.
2. Красный, синий, зеленый.
3. Красный одновременно с зеленым, синий.

отв. 3


Водитель зеленого автомобиля:



1. Имеет право на первоочередное движение.
2. Должен уступить дорогу.

отв. 1


Перекресток последним проедет:



1. Красный автомобиль.
2. Синий автомобиль.
3. Зеленый автомобиль.

отв. 3


Перекресток вторым проедет:



1. Зеленый автомобиль.
2. Красный автомобиль одновременно с синим.
3. Желтый автомобиль.

отв. 2


Автомобили проедут перекресток в следующем порядке:



1. Синий, зеленый, красный.
2. Красный, синий, зеленый.
3. Зеленый, красный, синий.

отв. 2


Перекресток вторым проедет:



1. Зеленый автомобиль.
2. Синий автомобиль.
3. Красный автомобиль.

отв. 1


Красный автомобиль проедет перекресток:



1. Вторым, одновременно с синим.
2. Вторым, после желтого.
3. Третьим, после зеленого и желтого.

отв. 1

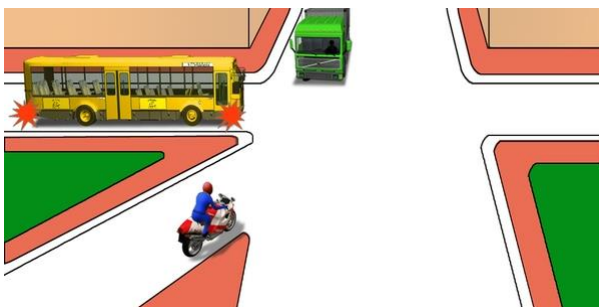
Желтый автомобиль проедет перекресток:



1. Первым.
2. Вторым.
3. Третьим.
4. Последним.

отв. 4

В каком ответе правильно указана очередность проезда?



1. Мотоцикл, автобус, грузовой автомобиль.
2. Автобус, мотоцикл, грузовой автомобиль.
3. Автобус, грузовой автомобиль, мотоцикл.

отв. 1




Транспортные средства проедут перекресток в следующей последовательности:



1. Легковой автомобиль, автобус, трамвай.
2. Трамвай, автобус, легковой автомобиль.
3. Трамвай, легковой автомобиль, автобус.

отв. 3


Водитель какого транспортного средства должен уступить дорогу?



1. Водитель легкового автомобиля.
2. Водитель автобуса.

отв. 2

Какое транспортное средство должно уступить дорогу?



1. Синий автомобиль.
2. Красный автомобиль.

отв. 2

Транспортные средства проедут перекресток в следующей последовательности:



1. Желтый автобус, грузовой автомобиль, зеленый автобус.
2. Грузовой автомобиль, желтый автобус, зеленый автобус.
3. Желтый автобус, зеленый автобус, грузовой автомобиль.

отв. 2

Транспортные средства проедут перекресток в следующей последовательности:



1. Автобус, легковой автомобиль и грузовой автомобиль одновременно.
2. Легковой автомобиль и грузовой автомобиль одновременно, автобус.

отв. 1

В какой последовательности транспортные средства проедут перекресток, если светофоры не работают:



1. Троллейбус и мотоцикл, автобус и легковой автомобиль.
2. Мотоцикл, автобус и легковой автомобиль, троллейбус.
3. Автобус и легковой автомобиль, троллейбус и мотоцикл.

отв. 2


Транспортные средства проедут перекресток в следующей последовательности:



1. Грузовой автомобиль, трамвай и автобус, мотоцикл и легковой автомобиль.
2. Трамвай и автобус, мотоцикл и легковой автомобиль, грузовой автомобиль.

отв. 1

Транспортные средства проедут перекресток в следующей последовательности:



1. Автомобиль "Скорой помощи", трамвай, мотоцикл, автобус, легковой автомобиль.
2. Мотоцикл, автобус, трамвай и автомобиль "Скорой помощи", легковой автомобиль.

отв. 2

Транспортные средства проедут перекресток в следующей последовательности:



1. Грузовой автомобиль и мотоцикл, автобус, троллейбус.
2. Грузовой автомобиль и автобус, мотоцикл, троллейбус.

отв. 1


Транспортные средства проедут перекресток в следующей последовательности:



1. Грузовой автомобиль, легковой автомобиль, автобус, автоцистерна.
2. Грузовой автомобиль, автобус, легковой автомобиль, автоцистерна.

отв. 1

Легковой автомобиль проедет перекресток:



1. Первым.
2. Вторым, после автобуса.
3. Третьим.

отв. 2

Транспортные средства проедут перекресток в следующей последовательности:



1. Легковой автомобиль, автобус, грузовой автомобиль.
2. Автобус, грузовой автомобиль, легковой автомобиль.
3. Автобус, легковой автомобиль, грузовой автомобиль..

отв. 2



Транспортные средства проедут перекресток в следующей последовательности:



1. Грузовой автомобиль, легковой автомобиль, автобус.
2. Автобус, грузовой автомобиль, легковой автомобиль.
3. Автобус, легковой автобус, грузовой автобус.

отв. 1

Могут ли одновременно выполнить поворот налево на этом перекрестке?



1. Да
2. Нет. Должен уступить водитель легкового автомобиля
3. Нет. Должен уступить водитель грузового автомобиля

отв. 1

Кому Вы обязаны уступить дорогу в данной ситуации?



1. Только автобусу
2. Легковому автомобилю
3. Никому

отв. 3

При выполнении поворота налево в этой ситуации:



1. Вы проедете перекресток первыми
2. Уступите дорогу водителю грузового автомобиля

отв. 1

При выполнении поворота направо в этой ситуации:



1. Вы проедете перекресток первыми
2. Уступите дорогу водителю грузового автомобиля

отв. 1

При продолжении движения прямо:



1. Вы проедете перекресток первыми
2. Проедете после легкового автомобиля

отв. 2



При выполнении разворота в данной ситуации необходимо уступить дорогу:



1. Легковому автомобилю
2. Обоим водителям

отв. 1

При проезде перекрестка в данной ситуации не создавать препятствий для пешеходов



1. Обязаны
2. Не обязаны

отв. 1

В условиях образовавшейся пробки непосредственно после перекрестка, разрешается въезжать на перекресток только:



1. Если продолжим движение прямо
2. Если выполним поворот или разворот
3. Во всех перечисленных случаях

отв. 2

Мы обязаны уступить дорогу:



1. Водителю мотоцикла
2. Легковому автомобилю
3. Никому

отв. 3

При выполнении поворота налево в данной ситуации мы обязаны уступить дорогу:



1. Водителю легкового автомобиля
2. Водителю автобуса
3. Никому

отв. 3

Мы обязаны уступить дорогу:



1. Только водителю трамвая
2. Водителю грузового автомобиля
3. Обоим водителям

отв. 3

Дорогу следует уступить:



1. Водителю автобуса
2. Обоим водителям
3. Никому

отв. 3

В данной ситуации при проезде перекрестка уступить дорогу:



1. Обязаны
2. Не обязаны

отв. 2

В данной ситуации при проезде перекрестка:



1. Имеем право проехать первыми
2. Должны уступить водителю трамвая
3. Должны уступить водителю грузового автомобиля
4. Должны уступить всем водителям

отв. 1

При въезде грузовым движением на перекресток, оборудованный знаком "Круговое движение", водитель транспортного средства

1. Обязан уступить дорогу транспортным средствам, движущимся по этому перекрестку
2. Имеет преимущество движения по отношению к движущимся по этому перекрестку

отв. 1

В данной ситуации при повороте налево мы обязаны уступить дорогу:



1. Всем водителям
2. Только водителю легкового автомобиля
3. Водителям автобуса и легкового автомобиля

отв. 3

Какой водитель обязан не препятствовать пешеходам?



1. Водитель легкового автомобиля
2. Водитель грузового автомобиля
3. Оба водителя

отв. 3

В данной ситуации может ли водитель выполнить поворот налево?



1. Да
2. Да, если не создаст препятствия для водителя грузового автомобиля
3. Нет

отв. 2

В данной ситуации при выполнении поворота налево водитель:



1. Должен уступить дорогу
2. Проедет перекресток первым

отв. 1

Знаки информируют, что:



1. Через 200 метров будет необходимость уступать дорогу пересекающему
2. На 200-метровом участке должны всем уступить

отв. 1

При повороте налево во второй проезд водитель:



1. Имеет преимущество
2. Должен уступить другим водителям
3. Должны уступить водителю автобуса

отв. 3

При проезде перекрестка прямо водитель:



1. Может проехать первым
2. Должен уступить трамваю
3. Должен уступить обоим водителям

отв. 2

При выполнении поворота налево кому водитель обязан уступить?



1. Водителю автобуса
2. Водителю легкового автомобиля
3. Никому

отв. 1



При въезде на этот перекресток водитель:



- 1.Имеет право на первоочередное движение
- 2.Должен уступить грузовому автомобилю
- 3.Должен уступить обоим водителям

отв. 3

При выполнении поворота налево кому водитель обязан уступить?



- 1.Обоим водителям
- 2.Водителю легкового автомобиля
- 3.Водителю автобуса

отв. 1

В данной ситуации мы обязаны уступить:



- 1.Обоим водителям
- 2.Только встречному грузовому автомобилю

отв. 1

При выполнении поворота налево:



- 1.Вы проедете перекресток первыми
- 2.Уступите дорогу

отв. 1

При данной ситуации поворот направо выполняем,



- 1.Проезжая перекресток первыми
- 2.Уступив дорогу водителю легкового автомобиля
- 3.Уступив дорогу обоим водителям

отв. 1

При выполнении поворота направо:



- 1.Должны уступить дорогу
- 2.Можем проехать первыми

отв. 2

При повороте налево Вы должны уступить дорогу:



1. Водителям автобуса и мотоцикла
2. Водителю автобуса
3. Всем

отв. 3

При выполнении поворота налево:



1. Проедете первыми одновременно с легковым автомобилем
2. Проедете после мотоцикла

отв. 2

При движении прямо Вы обязаны уступить:



1. Обоим водителям
2. Только легковому автомобилю
3. Никому

отв. 1

Уступить трамваю:



1. Обязаны
2. Не обязаны

отв. 1

В данной ситуации когда разрешается выполнить поворот направо?



1. Непосредственно
2. Одновременно с проездом грузового автомобиля, если это не создает для него препятствия
3. После проезда грузового автомобиля

отв. 2

При выполнении поворота налево Вы обязаны уступить дорогу:



1. Только водителю автобуса
2. Обоим водителям
3. Никому

отв. 1

Кто первым проедет перекресток?



1. Водитель грузового автомобиля
2. Водитель троллейбуса
3. Правила в данном случае не регулируются. Водители проедут, проявляя взаимное уважение

отв. 3

Не препятствовать пешеходам водитель обязан:



1. Только при выполнении поворота налево
2. Только при выполнении поворота направо
3. В обоих случаях аналогично

отв. 3

При повороте направо Вы обязаны уступить дорогу:



1. Пешеходам и велосипедистам
2. Только пешеходам

отв. 1

При выполнении поворота налево Вы обязаны уступить дорогу:



1. Только водителю легкового автомобиля
2. Водителям легкового автомобиля и автобуса
3. Никому

отв. 1

Когда водитель не может определить наличие покрытия на дороге (темное время суток, грязь, снег и т. д.), а знаки приоритета отсутствуют, то

1. Он должен считать, что находится на второстепенной дороге
2. Он должен руководствоваться правилами проезда перекрестка равнозначных дорог

отв. 1

В данной ситуации мы обязаны уступить дорогу:



1. Всем водителям
2. Только водителю грузового автомобиля
3. Только водителю легкового автомобиля

отв. 1



Мы обязаны уступить дорогу:



1. Водителю легкового автомобиля
2. Водителям легкового автомобиля и автобуса
3. Всем водителям

отв. 2

При выполнении разворота на этом перекрестке:



1. Первым выполните маневр
2. Должны уступить другим водителям

отв. 2

В условиях желтого мигающего сигнала светофора, при проезде перекрестка прямо, мы обязаны:



1. Остановиться и подождать, пока не загорится зелёный разрешающий сигнал
2. Уступить водителю легкового автомобиля
3. Уступить водителю трамвая

отв. 2

При движении прямо:



1. Мы можем проехать перекресток первыми
2. Должны уступить дорогу

отв. 2

При выполнении разворота кому Вы должны уступить дорогу?



1. Водителю грузового автомобиля
2. Водителю легкового автомобиля
3. Обоим водителям

отв. 1

При выполнении поворота налево уступить трамваю



1. Обязаны
2. Не обязаны

отв. 1

Уступить грузовому автомобилю, приближающемуся с дороги без покрытия, на этом перекрестке:



1. Обязаны, поскольку он приблизился к нам с правой стороны
2. Не обязаны, поскольку дорога с твердым покрытием является главной по отношению к дороге без покрытия

отв. 2

В случае желтого мигающего сигнала светофора:



1. Мы должны подождать, пока не загорится зелёный сигнал
2. Проедем перекресток, уступая водителю тележки
3. Проедем перекресток одновременно с легковым автомобилем

отв. 2

При повороте налево мы обязаны уступить дорогу:



1. Водителю легкового автомобиля
2. Водителю автобуса
3. Водителю мотоцикла
4. Никому

отв. 4

В данной ситуации:



1. Обязаны уступить дорогу водителю грузового автомобиля
2. Можем проехать перекресток одновременно с трамваем

отв. 1

При проезде перекрестка мы обязаны уступить:



1. Водителю мотоцикла
2. Водителям мотоцикла и автобуса
3. Водителям легкового автомобиля и автобуса
4. Всем водителям

отв. 4

В данной ситуации Вы должны уступить дорогу:



1. Только водителю трамвая
2. Водителю легкового автомобиля
3. Водителям легкового автомобиля и трамвая
4. Всем водителям

отв. 3

При выполнении поворота налево в данной ситуации:



1. Вы проедете перекресток первыми
2. При въезде на перекресток уступите дорогу водителю мотоцикла, а затем завершите маневр

отв. 2

При проезде перекрестка прямо необходимо уступить дорогу:



1. Водителю грузового автомобиля
2. Водителю легкового автомобиля
3. Обоим водителям

отв. 3

В данной ситуации:



1. Вы проедете перекресток первыми
2. Уступите дорогу водителю легкового автомобиля
3. Уступите дорогу обоим водителям

отв. 2

Мы обязаны уступить:



1. Обоим водителям
2. Водителю легкового автомобиля
3. Водителю автобуса

отв. 1

Здесь перекресток:



1. Проедете первыми
2. Уступите дорогу грузовому автомобилю

отв. 2

Уступить дорогу водителю трамвая:



1. Обязаны
2. Не обязаны

отв. 1



При выполнении поворота налево следует уступить:



1. Водителю грузового автомобиля
2. Обоим водителям
3. Никому

отв. 1

На этом перекрестке:



1. Уступите дорогу
2. Проедете первыми

отв. 2

Уступить трамваю:



1. Обязаны
2. Не обязаны

отв. 1

В данной ситуации поворот направо разрешается:



1. Только после грузового автомобиля
2. Одновременно с грузовым автомобилем, если это не создаст препятствия для водителя грузового автомобиля

отв. 2

При движении прямо следует уступить:



1. Водителю легкового автомобиля
2. Всем
3. Никому

отв. 1

В данной ситуации необходимо уступить:



1. Водителю автобуса
2. Водителю грузового автомобиля
3. Обоим водителям

отв. 3

На каком рисунке изображена главная дорога?



1. Только на левом
2. На нижнем и левом
3. На всех

отв. 2

На каком рисунке изображена главная дорога?



1. Только на правом
2. На правом и нижнем
3. На всех

отв. 2

На каком рисунке изображена главная дорога?



1. На верхнем левом
2. На верхнем правом
3. На верхних рисунках
4. На всех

отв. 3

Какая дорога на перекрестке считается главной?

1. Дорога с твердым покрытием (асфальтобетон, цементобетон, каменные материалы и т. д.) по отношению к грунтовой
2. Трехполосная дорога по отношению к имеющей по одной полосе для каждого направления
3. Асфальтобетонная дорога по отношению к плиточной дороге

отв. 1